

2 A



3112003010002

DENEME SINAVI

3
sinif

Yeni Sistem
Yeni Sorular

1 - 4. soruları aşağıdaki metne göre cevaplayınız.

Güneş henüz doğmadan kendisine kahvaltı arayan bir balıkçı nehir kıyısına gelmiş. Temiz ve berrak nehir suyu balık ile dolmuş. Ama seçici davranan uzun bacaklı ve uzun gagalı balıkçı bir türlü karar verememiş. O sırada genç bir levrek ona doğru yaklaşmış. Fakat balıkçı bu balığa burun kıvrımış ve kendi kendine şöyle demiş:

Hayır, bu küçük balık için gagamı suya sokmaya değmez. Biraz daha acıktıktan sonra tekrar gelirim.

Bir süre sonra güneş doğduğunda balıkçı tekrar nehir kıyısına gelmiş. Ama balıklar kıyıya yakın sığ suları çoktan terk etmiş. Balıkçı bu nedenle hiç balık yakalayamamış. Böylece, kendini beğenmiş balıkçı birkaç minik salyangoz ile kahvaltı etmek zorunda kalmış.



1. Aşağıdakilerden hangisi metindeki balıkçının özelliklerinden biri değildir?

- A) Uzun bacaklıdır.
- B) Uzun gagalıdır.
- C) Uzun kuyrukludur.

3. Aşağıdakilerden hangi bu metnin ana karakteridir?

- A) Nehirdeki kurbağa
- B) Balıkçı
- C) Genç bir levrek

2. Balıkçının balık yerine salyangoz yemesinin sebebi nedir?

- A) Balık yakalayamaması
- B) Salyangozu çok sevmesi
- C) Balıklardan korkması

4. Aşağıdakilerden hangisi bu metinde geçen altı çizili sözcüğün eş anlamlısıdır?

- A) Göl
- B) Dere
- C) Irmak

Kitap en iyi arkadaş,
Bana neyi sorsam söyler.
Ne anlatsa en sonunda,
Çalış, iyi, doğru ol der.

Geceleri uyumaz o,
Beni kaldırır erkenden.
Okulum kadar güzeldir,
Kitabı çok severim ben.

(Fazıl Hüsnü DAĞLARCA)

(5, 6 ve 7. soruyu yukarıdaki şiire göre cevaplayınız.)

5. Bu şiirin başlığı aşağıdakilerden hangisi olabilir?

- A) Kitabım
- B) Okul ve Çocuk
- C) Çalışmanın Faydaları

6. Bu şiirin ana duygusu aşağıdakilerden hangisidir?

- A) Okul özlemi
- B) Kitap sevgisi
- C) Yaşama sevinci

7. Yukarıdaki şiir kaç dizeden (mısra) oluşmuştur?

- A) 2
- B) 4
- C) 8

8.



Küçük sincap - - - - kış için hazırlıklarını hızlandırdı. Sabah erkenden kalkıp ceviz topladı. Küçük sincap ceviz toplarken rüzgâr esiyor, ağaçlardan yapraklar dökülüyordu.

Bu metinde boş bırakılan yere aşağıdakilerden hangisi gelmelidir?

- A) yaz gelince
- B) sonbahar gelince
- C) ilkbahar gelince

9. Aşağıdaki sözcüklerden hangileri arasında zıt (karşıt) anlamlılık ilişkisi vardır?

- A) Yüksek - Alçak
- B) Yumuşak - Hafif
- C) Değerli - Kıymetli

10. "Çoban" sözcüğü aşağıdaki canlılardan hangisini çağırır?

A)



B)



C)



11. "Sürmek" sözcüğü aşağıdaki cümlelerin hangisinde "zaman almak" anlamında kullanılmıştır?

- A) Denize girmeden önce kollarına ve yüzüne krem sürdü.
- B) Ödevlerimi yapmam iki saat sürdü.
- C) Arabayı her zaman babam sürer.

12.



Bu görselde anlatılmak istenen aşağıdakilerden hangisidir?

- A) Her zaman çevremizi temiz tutmalıyız.
- B) Boş zamanlarımızda yürüyüş yapmalıyız.
- C) Yeşil alanların çoğalması için çalışmalıyız.

13. 1. olarak

- 2. dişlerimizi
- 3. fırçalamalıyız
- 4. düzenli

Numaralanmış sözcüklerle kurallı ve anlamlı bir cümle oluşturulduğunda sıralama nasıl olur?

- A) 2 - 4 - 1 - 3
- B) 4 - 3 - 1 - 2
- C) 2 - 1 - 3 - 4

14. Cemre, okuldan gelince annesine yardım eder. Sabahları yatağını toplar. Odasını her zaman düzenli tutar. Akşamları da yatmadan önce mutlaka kitap okur.

Bu metinden Cemre ile ilgili aşağıdakilerden hangisi çıkarılamaz?

- A) Düzenli biridir.
- B) Akşamları erken yatmaktadır.
- C) Kitap okumayı sevmektedir.

15. İnsanlara karşı güler yüzlü olmak hepimizin kolaylıkla yapacağı bir şeydir. Güler yüzlü olmak dostlarımızın sayısını artırırken düşmanlarımızın sayısını da azaltır. Bu nedenle her zaman güler yüzlü olmalıyız.



Bu metnin ana fikri aşağıdakilerden hangisidir?

- A) Tanımadığımız insanlarla arkadaşlık etmemeliyiz.
- B) Dostlarımızı seçerken dikkatli olmalıyız.
- C) İnsanlara karşı her zaman güler yüzlü olmalıyız.

TEST BİTTİ.

CEVAPLARINIZI KONTROL EDİNİZ.

1.



Tablodaki araç ve teknolojik ürünlerin ortak özelliği aşağıdakilerden hangisidir?

- A) Elektrikle çalışmaları
- B) Hayatımızı kolaylaştırmaları
- C) Temizlik işlerinde kullanılmaları

2. Her evde yemek pişirmek, temizlik yapmak, odaları toparlamak, alışveriş yapmak gibi pek çok iş vardır.

Bu işlerin çabucak bitirilmesi için aşağıdakilerden hangisi yapılmalıdır?

- A) İşleri anne ve baba yapmalıdır.
- B) Tüm işler tek kişi tarafından yapılmalıdır.
- C) İş bölümü yapıp herkes sorumluluklarını yerine getirmelidir.

3. Yaşadığımız yerin veya adresimizin kolayca bulunması için kroki çizeriz.

Kroki çizerken aşağıdakilerden hangisine gerek yoktur?

- A) Yön oku kullanmaya
- B) Evimizde kaç kişinin yaşadığını belirtmeye
- C) Çevredeki caddeleri, sokakları ve önemli binaları belirtmeye

4. Kubilay ve ailesi konak apartmanının 3. katında yaşıyorlar. 2. katta ise Başak teyzeler oturuyor ve Başak teyzenin 1 yaşında bir kızı var. Başak teyzenin annesi de onlarla birlikte yaşıyor ve gürültüden pek hoşlanmıyor. Bu yüzden onların rahatsız edilmemesi gerekiyor.

Kubilay, aşağıdakilerden hangisini yaparsa 2. kattaki komşuları rahatsız olur?

- A) Koridorda top oynarsa
- B) Kulaklıkla müzik dinlerse
- C) Televizyonu biraz kısık sesle izlerse

5. "Pazar akşamı dedem bizi ziyarete geldi. Annem börekler ve nefis kurabiyeler yapmıştı. Hep birlikte yedik. Sonra dedem çocukluk anılarını anlattı. Anlattıklarına göre okula siyah önlükle gitmek zorunluymuş. Ayrıca çelik çomakla ve tahtadan yapılan oyuncaklarla oynuyorlarmış. Şimdi biz okula renkli elbiselerle gidiyoruz. Uzak-tan kumandalı, daha renkli ve ışıklı arabalarla oynuyoruz."

Buna göre dedesinin yaşadığı zamandan Mesut'un yaşadığı zamana kadar aşağıdakilerden hangisi değişmemiştir?

- A) Oyuncaklar
B) Okul kıyafetleri
C) Temel ihtiyaçlar

6. Aşağıdaki tabloda bazı meslekler ve yaptıkları işler eşleştirilmiştir.

	Meslekler	Yaptıkları İş
●	Polis	Güvenliği sağlar.
■	Terzi	Giyisi ve sökükleri diker.
▲	Aşçı	Sebze ve meyve yetiştirir.







Tabloda yapılan eşleştirmelerden hangileri doğrudur?

- A) ● B) ● ve ■ C) ■ ve ▲

7.

Geleceğe enerjin kalsın	Suyunu boşa harcama
	
Kitap en iyi arkadaştır	
	

Tabloda verilenlerden hangileri kaynakların özenli kullanımı ile ilgili sloganlardandır?

- A)  ve 
B)  ve 
C)  ve 

8. Cumhuriyet İlkokulu öğrencilerinin her biri evlerinden birer kitap getirerek kütüphaneye ihtiyacı olan bir okula gönderdiler.

Buna göre Cumhuriyet İlkokulunun öğrencileri ile ilgili aşağıdakilerden hangisi söylenemez?

- A) Duyarlı oldukları
B) Dayanışmaya önem verdikleri
C) Sadece kendilerini düşündükleri

9. Seçimlerde oy isterken ve oy kullanırken birbirimize saygılı olmaya özen göstermeliyiz.

Aşağıdaki öğrencilerden hangisinin arkadaşlarına saygılı davrandığı söylenebilir?

- A) Kağan: "Beni başkan seçerseniz, herkese eşit davranacağım."
 B) Sibel: "Beni başkan seçerseniz, benim dediğim her şeyi yapmak zorundasınız."
 C) Sultan: "Beni başkan seçerseniz, her zaman kaloriferin yanında benim oturacağım."

10.

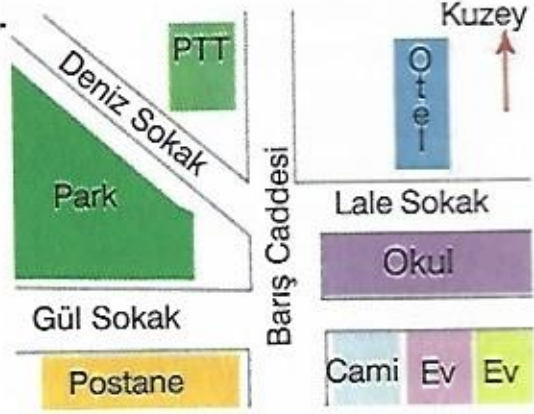


Selim çok iyi kalecilik yapıyor. Öğretmeni ve arkadaşları bu konuda çok başarılı olduğunu söylüyorlar.

Buna göre Selim'in okulda hangi kulübe üye olması gerekir?

- A) Müzik
 B) Spor
 C) Tiyatro

11.



Bu krokiye bakarak aşağıdakilerden hangisi söylenemez?

- A) Kroki çiziminde cadde ve sokak adları belirtilmiştir.
 B) Kroki çiziminde sembol ve şekillerden yararlanılmıştır.
 C) Kroki çiziminde belirli bir oranda küçültme yapılmıştır.

12.

12. Arkadaşlarımla konuşurken teşekkür ederim, rica ederim, özür dilerim gibi ifadeleri kullanırım.



Buna göre Kerem için aşağıdakilerden hangisi söylenebilir?

- A) Kibardır.
 B) Şakacıdır.
 C) Yardımseverdir.

TEST BİTTİ.

CEVAPLARINIZI KONTROL EDİNİZ.

1. Bir okulun öğrenci sayısı 7 birlik ve 4 yüzlükten oluşmaktadır.

Buna göre bu okulun öğrenci sayısı aşağıdakilerden hangisidir?

- A) 407 B) 472 C) 714

2.



384 TL

Yukarıdaki ayakkabının fiyatının TL türünden en yakın onluğa yuvarlanmış şekli aşağıdakilerden hangisidir?

- A) 370 B) 380 C) 385

3. 36, 40, 44, A, 52, 56

Yukarıda verilen örüntüde A kaçtır?

- A) 46 B) 48 C) 50

4. Seda, cumartesi günü 58 soru, pazar günü 37 soru çözmüştür. Cenk ise cumartesi günü 80 soru, pazar günü 45 soru çözmüştür.

Buna göre Seda ve Cenk'in bu iki günde çözdükleri toplam soru sayısı kaçtır?

- A) 210 B) 215 C) 220

5.

$$\begin{array}{r} 517 \\ - 253 \\ \hline \end{array}$$

Yukarıdaki işlemin sonucu kaçtır?

- A) 244 B) 255 C) 264

6. Tuna 44 TL'ye kitap, 19 TL'ye kalem almıştır.

Tuna'nın kitap ve kaleme verdiği toplam para miktarını, sayıları en yakın onluğa yuvarlayarak tahmin eden Ege işlemin sonucunu kaç bulur?

- A) 50 B) 60 C) 65

7.

$$40 + 70 = 110$$

$$3 + 5 = 8$$

$$110 + 8 = 118$$

Yukarıda zihinden yapılmış verilen işlem aşağıdakilerden hangisidir?

- A) $43 + 75$ B) $118 - 70$

C) $48 + 75$

8.

$$\begin{array}{r} 2A2 \\ + 481 \\ \hline 733 \end{array}$$

Yukarıdaki işlemde A yerine yazılması gereken sayı aşağıdakilerden hangisidir?

- A) 3 B) 4 C) 5

9. 3A sınıfında 18 erkek, 15 kız öğrenci vardır.

3B sınıfındaki öğrenci sayısı 3A sınıfındaki öğrenci sayısından 2 fazla olduğuna göre 3B sınıfında kaç öğrenci vardır?

- A) 34 B) 35 C) 36

10. 481 – 235

Derya, yukarıdaki işlemi sayıları en yakın onluğa yuvarlayarak tahmin etmiştir.

Buna göre işlemin gerçek sonucu tahmini sonucundan kaç fazladır?

- A) 6 B) 7 C) 8

11. 2, 7 ve 4 rakamları birer kez kullanılarak yazılabilecek üç basamaklı **en büyük** sayı, üç basamaklı **en küçük** sayıdan kaç büyüktür?

- A) 450 B) 468 C) 495

12. **Tablo:** En Sevilen Meyve Türleri

Meyve	Öğrenci sayısı
Çilek	+++ + III
Muz	+++ + III
Portakal	+++

Yukarıdaki tabloda bir sınıftaki öğrencilerin en sevdiği meyveler verilmiştir.

Buna göre en çok sevdiği meyve çilek olanların sayısı diğer meyveleri sevenlerin toplam sayısından kaç eksiktir?

- A) 5 B) 6 C) 7

13. **Aşağıdakilerden hangisi doğrudur?**

- A) Çift doğal sayı ile tek doğal sayının toplamı her zaman çift doğal sayıdır.
 B) Çift doğal sayı ile çift doğal sayının toplamı her zaman çift doğal sayıdır.
 C) Tek doğal sayı ile tek doğal sayının toplamı her zaman tek doğal sayıdır.

14. **Aşağıda Romen rakamlarıyla gösterilen işlemlerden hangisinin sonucu diğerlerinden büyüktür?**

- A) XVIII – X B) XV – IV
 C) XIII – V

15. **Tablo:** Öğrenci sayıları

Sınıf	Öğrenci sayısı
3A	26
3B	32
3C	?
3D	28

Yukarıdaki tabloda bir okuldaki 3. sınıf öğrencilerinin şubelerine göre sayıları verilmiştir.

Okulda 3. sınıfa giden 116 öğrenci olduğuna göre 3C sınıfında kaç öğrenci vardır?

- A) 28 B) 30 C) 32

TEST BİTTİ.

CEVAPLARINIZI KONTROL EDİNİZ.

1.



Güneş doğarken önce bir kısmı, sonra yarısı, en sonunda tamamı görülür.

Bu durumun nedeni aşağıdakilerden hangisidir?

- A) Dünya'nın küre şeklinde olması
- B) Dünya'nın katmanlardan oluşması
- C) Yeryüzünün büyük bir kısmının sularla kaplı olması

2. Üzerinde yaşar
Hayvanlar, bitkiler, insanlar
Engibeli yapıdadır
Yapısında bulunur
Dağlar, ovalar, çukurlar

Yukarıda bir katman şiirsel olarak ifade edilmiştir.

Bu katman aşağıdakilerden hangisidir?

- A) Hava küre
- B) Su küre
- C) Taş küre

3. ●. Yağış ve rüzgâr gibi olaylar meydana gelir.

- . Magma adı verilen sıcak ve akışkan maddeden oluşur.

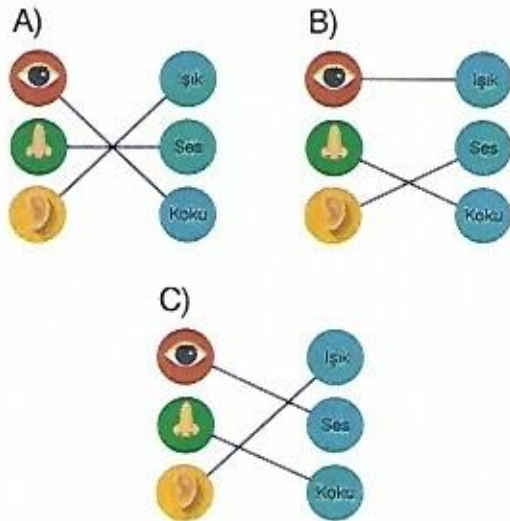
Yukarıdaki özellikler hangi seçenekte verilen katmanlara aittir?

- | | |
|--------------|-----------|
| ● | ■ |
| A) Su küre | Taş küre |
| B) Hava küre | Ateş küre |
| C) Ağır küre | Su küre |

4. Aşağıda bazı duyu organları ve bu duyu organlarını uyaran etkiler verilmiştir.



Buna göre aşağıdaki eşleştirmelerden hangisi doğrudur?



5. Aşağıda iki duyu organımızın sağlığı için dikkat edilmesi gerekenlere birer örnek verilmiştir.

- ★ Bilgisayar ve televizyona çok yakından bakmamalıyız.
- ★ Ne olduğunu bilmediğimiz maddelerin tadına bakmamalıyız.

Buna göre aşağıdaki duyu organlarından hangisi ile ilgili yukarıda uyarı verilmemiştir?

- A) Dil B) Göz C) Deri

6. **Öğretmen:** Deri sağlığı için dikkat edilmesi gerekenlerden birini söyler misiniz?

Fen bilimleri öğretmeni öğrencilere yukarıdaki soruyu sormuştur.


Buna göre aşağıdaki cevapları veren öğrencilerden hangisinin cevabı doğrudur?

A)

Haftada en az iki defa banyo yapmalıyız.

B)

Çok yüksek sesle müzik dinlememeliyiz.



C)

Besinleri çok soğuk veya çok sıcak olarak tüketmemeliyiz.

7. Aşağıdaki tabloda vücudumuzda bulunan bazı organlar ile ilgili işaretleme yapılacaktır.

Organ	Duyu organı	Duyu organı değil
Ei		
Dil		
Deri		
Mide		

Buna göre tablonun doğru doldurulmuş hâli aşağıdakilerden hangisidir?

A)

Organ	Duyu organı	Duyu organı değil
Ei	✓	
Dil	✓	
Deri		✓
Mide		✓

B)

Organ	Duyu organı	Duyu organı değil
Ei		✓
Dil	✓	
Deri	✓	
Mide		✓

C)

Organ	Duyu organı	Duyu organı değil
Ei		✓
Dil	✓	
Deri		✓
Mide		✓

8. Hareket hâlindeki bir arabaya, hareketi yönünde kuvvet uygulanıyor.

Arabanın bundan sonraki hareketi için aşağıdakilerden hangisi söylenebilir?

A) Hızlanır

B) Durur

C) Yavaşlar

9.



I



II

Yukarıda görseli verilen durumlarda çocukların uyguladığı kuvvetin türü hangi seçenekte doğru verilmiştir?

- | | |
|----------|-------|
| I | II |
| A) İtme | Çekme |
| B) Çekme | İtme |
| C) Çekme | Çekme |

10. Aşağıdaki cümlelerin başındaki parantezlere, verilen cümle doğru ise "D", yanlış ise "Y" yazılacaktır.

- 1.(...) Sel ve çığ hareketli varlıkların neden olduğu olaylara örnektir.
- 2.(...) Lunaparktaki çarpışan arabaların hareketi kuvvetin yön değiştirme etkisine örnek verilebilir.
- 3.(...) Yelkenli, rüzgârın uyguladığı çekme kuvveti ile hareket eder.

Buna göre aşağıdaki değerlendirmelerden hangisi doğrudur?

- | | | |
|----------|----------|----------|
| A) 1.(Y) | B) 1.(D) | C) 1.(D) |
| 2.(D) | 2.(Y) | 2.(D) |
| 3.(Y) | 3.(D) | 3.(Y) |

11. Yarışta belirli bir parkuru üç sporcunun koşma süresi tabloda verilmiştir.

Sporcu	Koşma süresi (saniye)
Ahmet	43
Tuna	48
Emre	39

Buna göre hangi sporcu yarışı kazanır?

- A) Ahmet B) Tuna C) Emre

NOT

12. I. Vantilatörün pervanesinin hareketi

II. Salıncağın hareketi

III. Piste inen uçağın hareketi

Yukarıdaki varlıkların yaptığı hareket türü ile ilgili aşağıda verilenlerden hangisi doğrudur?

- | | |
|----------------|----------------|
| A) I. Dönme | B) I. Hızlanma |
| II. Sallanma | II. Sallanma |
| III. Yavaşlama | III. Hızlanma |

- C) I. Yavaşlama
II. Dönme
III. Hızlanma

TEST BİTTİ.

CEVAPLARINIZI KONTROL EDİNİZ.