


4.
SINIF

DEĞERLENDİRME SINAVI

A KİTAPÇIĞI
SINAV KODU - 19404



Adı Soyadı:

Sınıfı:

Numarası:

SÜRELİ - ULUSAL • DENEME SINAVI DERGİSİ • ISSN: 2147-477X

Yayın Sahibi ve Sorumlu Yazı İşleri Müdürü: Fırat GÜNDOĞAN

Mutlukent Mah. 1964. Cad. No: 31 Ümitköy/ANKARA • Tel.: 0312. 418 76 76 (pbx) • Faks: 0312. 425 73 99 • www.seviye.com.tr
Baskı: Özgün Matbaacılık Sanayii ve Ticaret AŞ • Tel.: 0312. 645 19 10 (pbx) - Baskı Tarihi: Şubat 2019

4. SINIF ÖĞRENCİLERİNİN DİKKATİNE!

- DİKKAT:** 1. Soru kitapçığınızı kontrol ederek, baskı hatası olan kitapçığın değiştirilmesini isteyiniz.
2. Sınavda hesap makinesi, cep telefonu ve çağrı cihazı kullanılması yasaktır.

Soru Sayısı: 65

Sınav Süresi: 90 dakika

CEVAP KÂĞIDI İLE İLGİLİ AÇIKLAMA

1. Cevap kâğıdı üzerine yazacağınız yazı ve yapacağınız işaretlemelerde kurşun kaleminden başka kalem kullanmayınız.
2. Cevap kâğıdındaki size ait bölümlerin kodlamalarını eksiksiz olarak yapınız.
3. Sınav kitapçığındaki dersin adını cevap kâğıdınızın ilgili bölümüne mutlaka işaretleyiniz.
4. T.C. Kimlik numaranızı cevap kâğıdınızın ilgili bölümüne mutlaka işaretleyiniz.
5. Cevaplarınızı cevap kâğıdındaki ilgili sütunlara aşağıdaki örnekte olduğu gibi yuvarlağın dışına taşırmadan işaretleyiniz.

Yanlış karalamalarınızı düzeltirken yuvarlağın içini temizce siliniz.

ÖRNEK KODLAMA:



SORU KİTAPÇIĞI İLE İLGİLİ AÇIKLAMA

1. Bu soru kitapçığında; **TÜRKÇE** testinde **15**, **SOSYAL BİLGİLER** testinde **10**, **DİN KÜLTÜRÜ VE AHLAK BİLGİSİ** testinde **5**, **YABANCI DİL (İNGİLİZCE)** testinde **5**, **MATEMATİK** testinde **15** ve **FEN BİLİMLERİ** testinde **15** soru bulunmaktadır. Soruları cevaplamaya istediğiniz sorudan başlayabilirsiniz.
2. Her sorunun dört seçeneği vardır. Dört seçenekten sadece bir tanesi doğru cevaptır. Doğru bulduğunuz seçeneği cevap kâğıdında o soru için ayrılan yeri bularak işaretleyiniz.
3. Puanlamada **yanlış cevaplarınız doğru cevaplarınızdan çıkarılmayacaktır**. Doğru cevaplara karşı gelen ham puan tespit edilecektir. Bu nedenle doğru cevaplarınızın yüksek olması için rastgele cevaplama yapmayınız.
4. Size ayrı bir karalama kâğıdı verilmeyecektir. Soru kitapçığınızın içindeki boş alanları karalama yapmak için kullanabilirsiniz.
5. Cevabını bilmediğiniz sorular üzerinde fazla zaman kaybetmeden diğer sorulara geçiniz. Zamanınız kalırsa bu sorulara daha sonra dönebilirsiniz.
6. Sınavın bitiminde cevap kâğıdınızı ve soru kitapçığınızı teslim etmeyi unutmayınız.

TÜRKÇE TESTİ

DİKKAT: BU BÖLÜMDE YANITLAYACAĞINIZ TOPLAM SORU SAYISI 15'TİR.
BU BÖLÜMDEKİ SORULARLA İLGİLİ YANITLARINIZI "TÜRKÇE TESTİ" BÖLÜMÜNE İŞARETLEYİNİZ.

1. Aşağıdakilerden hangisinde hikâye unsurları doğru verilmiştir?

- A) Şahıs ve varlık kadrosu - zaman - olay - yer
B) Olay - kişi - çevre - park
C) Yer - devler- olay - zaman
D) Kişi - gökyüzü - olay - yer

2.



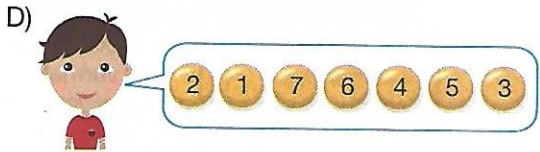

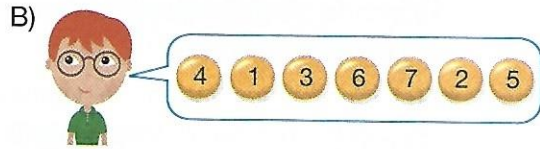

Patronu bu toplantıya katılmasını istemişti. evden erken çıktı. Toplantının başlayacağı saatte trafik yoğun olurdu.

Aşağıdakilerden hangisi, Kemal'in konuşmasındaki noktalı yerlerden hiçbirine uygun değildir?

- A) genellikle B) özellikle
C) bu nedenle D) gibi

3. 1 uçuşlarıyla 2 bir şölen
3 çevredeki 4 güvercinler
5 sundular 6 çocuklara
7 görsel

Yukarıdaki sözcük ve sözcük gruplarıyla oluşturulacak anlamlı ve kurallı cümle sıralamasını hangi öğrenci doğru belirlemiştir?



4. Bekçi, "Kimi aradınız?" diye sordu. Uzun süre cevap alamadı. Kadın, üzgün gözlerle etrafı süzmeye devam etti.

Bekçi, "....." diye tekrar sordu.





Kadın aynı suskunlukla kapıdan çıktı, gitti.

Yukarıdaki noktalı yere aşağıdakilerden hangisi yazılmalıdır?

- A) O kişi burada oturmuyor.
B) Beni duymadınız mı? Kimi arıyorsunuz?
C) Çok üzgün görünüyorsunuz oturun, bir bardak su için.
D) Tanımadığımı size kaç kere söyledim.

5. * Davranışlarının yanlışlığını öğrenerek doğru yola gelmek
* Farkında olmadan karşındakine dokunacak söz söylemek
* Telaştan, heyecandan ne yapacağını şaşırarak düzensiz ve karışık iş yapmak

Aşağıdaki deyimlerden hangisinin anlamı yukarıda verilmemiştir?

- A)  Akıl sır ermemek
B)  Baltayı taş vurmak
C)  Akli başına gelmek
D)  Eli ayağına dolaşmak

6. Tavşan ile kaplumbağa yarışmaya karar vermişler.

Tavşan "Kaplumbağa beni geçemez." diye düşünerek bir ağacın altında uyumuş. Kaplumbağa yarışı kazanmış.

Yukarıda verilen örnek hangi metin türüne ait olabilir?

- A) Günlük
B) Deneme
C) Anı
D) Fabl

7. **Aşağıdaki çocuklardan hangisi anlatımında hayali ifadelerle vermemiştir?**

- A)  Gökyüzündeki bulutlar konuşmamı çok beğenmişler.
B)  Zürafa, gökdelenin tepesindeki topu yakaladı.
C)  Çocuk koşarken aniden yere düştü.
D)  Köpek, tavuğun söylediklerini uygulamaya çalışıyordu.

8. Sevgiyle dönsün dünya
Bir salıncak gibi savrulsun
Biz çocukların
Sevinçten başlarını döndürerek

Hüseyin Yurttaş

Yukarıdaki şiirin ana duygusu nedir?

- A) Sevgi
B) Saygı
C) Dayanışma
D) Hoşgörü

A

A

A

A

A

9. Aşağıdaki sözcüklerden hangisinde “- ki/ki” nin yazımıyla ilgili yanlışlık yapılmıştır?

- A) O kadar yorulmuş ki bulduğu ilk sandalyeye oturdu.
- B) Okuldaki çocuklar bahçede top oynuyorlardı.
- C) Ödevini bitirmiş ki sinemaya gidiyor.
- D) Tahtada ki öğrenci koşarak yerine geçti.

10. Aşağıdaki cümlelerin hangisinde gereksiz sözcük kullanılması sebebiyle anlam bozukluğu oluşmuştur?

- A) Yanındakiyle alçak bir sesle fısıldayarak konuşuyordu.
- B) Sınıfa girer girmez derse başladı.
- C) Öğretmenimiz sıhhatli olmanın önemini anlattı.
- D) Bu duruma kesinlikle sen sebep oldun.

11. ● Doktor, sırtındaki beni ameliyatla aldı.
 ● Giderken beni yanına almazsan orayı bulamazsın.
 ● Koyu renkli benler sağlık açısından tehlikeli olabiliyor.
 ● Yüzündeki ben, onu diğerlerinden farklı kılıyordu.

Yukarıdaki cümlelerde bulunan altı çizili sözcüklerden hangisi diğerlerinden farklı anlamda kullanılmıştır?

- A) ● B) ● C) ● D) ●

12. Orda bir köy var uzakta
 O köy bizim köyümüzdür
 Gitmesek de görmesek de
 O köy bizim köyümüzdür.

Aşağıdaki görsellerden hangisi şiirde bahsedilen yer olabilir?



A

A

A

A

A

13.

1	ileri	5	düzenli
2	dağınık	6	hafif
3	savaş	7	geri
4	ağır	8	baş

Yukarıda verilen sözcükler, zıt anlam ilişkisine göre aşağıdakilerden hangisinde doğru eşleştirilmiştir?

- A)

1	-	7
2	-	6
3	-	5
4	-	8
- B)

1	-	8
2	-	7
3	-	6
4	-	5
- C)

1	-	5
2	-	8
3	-	6
4	-	7
- D)

1	-	7
2	-	5
3	-	8
4	-	6

14. • Uyurken zihnimizde oluşan olay ve düşüncelerin bütünü
- Yerleşim yerlerini birbirine bağlamak için açılan yer
- Bir yapının toprak altında kalan ve yapının dayandığı bölüm

Aşağıdaki sözcüklerden hangisinin anlamı yukarıda verilmemiştir?

- A) Temel
B) Rüya
C) Kat
D) Yol

15.



Yukarıdaki parantez içlerine sırasıyla hangi noktalama işaretleri konulmalıdır?

- A) (.) (.) (!) (?)
B) (.) (!) (.) (?)
C) (.) (!) (?) (.)
D) (.) (.) (.) (.)

TÜRKÇE TESTİ BİTTİ.

SOSYAL BİLGİLER TESTİNE GEÇİNİZ.

SOSYAL BİLGİLER TESTİ

DİKKAT: BU BÖLÜMDE YANITLAYACAĞINIZ TOPLAM SORU SAYISI 10'DUR.

BU BÖLÜMDEKİ SORULARLA İLGİLİ YANITLARINIZI "SOSYAL BİLGİLER TESTİ" BÖLÜMÜNE İŞARETLEYİNİZ.

1.



Anneannemin annesi 95 yaşında. Sağlığı da hafızası da gayet iyi. Onunla sözlü tarih çalışması yaptım.

Yağmur, yaptığı bu çalışma sonucunda toplumla ilgili aşağıdakilerden hangisi hakkında bilgi edinemez?

- A) Bilgisayar oyunlarının nerelerde oynandığı
- B) Misafirlikte ikram edilenler
- C) Ekonomik faaliyetlerin neler olduğu
- D) Düğünlerde oynanan oyunlar

2.



Ülkemizin fiziksel haritasında koyu kahverengi ile gösterilen bölgede yaşıyorum.


Ali'nin yaşadığı yerle ilgili aşağıdakilerden hangisi söylenemez?

- A) Ali'nin yaşadığı yerde dağlık bölgeler çoktur.
- B) Ali, Doğu Anadolu Bölgesi'nde yaşıyor olabilir.
- C) Ali'nin yaşadığı bölgede daha çok hayvancılık yapılmaktadır.
- D) Ali'nin yaşadığı yerde otomobil sanayisi gelişmiştir.

3. Öğretmenimiz, millî kültürümüze ait görselleri panoya asmıştır.

Aşağıdakilerden hangisi bu görsellerden biridir?

A)



B)



C)



D)







4. Aşağıdaki kahramanlardan hangisi Kurtuluş Savaşı'nda diğerlerinden farklı bir cephede mücadele etmiştir?

A) Ali Saip Bey
B) Tayyar Rahmiye Hanım
C) Sütçü İmam
D) Hasan Tahsin

5. İstanbul, düşman kuvvetlerinin işgalinde olduğu için Mustafa Kemal oldukça huzursuzdu. Anadolu'ya geçerek Millî Mücadele'yi başlatmak istiyordu. Bunun için iyi bir fırsat doğmuştu.

Bu fırsatı aşağıdaki öğrencilerden hangisi doğru söylemiştir?

- A)  Annesinin ani rahatsızlığı nedeniyle İzmir'e geçmesi
- B)  9. Ordu Müfettişi olarak Samsun'da görevlendirilmesi
- C)  Osmanlı padişahının hastalanması
- D)  İngilizler'in İstanbul'u terk etmesi

6. Doğa Dostu İzci Grubu, ormanda inceleme ve araştırma yapıyordu. Fakat kamp alanından oldukça uzaklaşmışlardı. Üstelik yanlarına pusula almayı da unutmuş olduklarını fark ettiler. İzci lideri "Kuzey yönünü belirleyebilirsek kampı bulabiliriz." dedi.

Buna göre aşağıdaki bilgilerden hangisi kuzey yönünü bulmaya yönelik bir bilgidir?

A) Karıncaların, yuvalarından çıkardıkları toprağı yığdıkları taraf
B) Güneş'in battığı taraf
C) Güneş'in doğduğu taraf
D) Ay'ın gökyüzünde bulunduğu taraf

7. Çakı, battaniye, makas, koli bandı, naylon örtü, pilli radyo, el feneri, ilk yardım çantası, bozulmayacak türden yiyecekler, koruyucu giysiler, içme suyu, bir miktar paranın bulunduğu bir çanta hazırladık.

Yukarıdaki hazırlık hangi doğal afet için yapılmaktadır?

A) Çığ
B) Deprem
C) Sel
D) Yangın

A

A

A

A

A

8.

1




Telefon

2



Tren

3



Tıbbi cihaz

Yukarıdaki teknolojik ürünlerin kullanım alanları sırasıyla aşağıdakilerden hangisinde doğru verilmiştir?

1	2	3
A) Ulaşım	İletişim	Eğitim
B) İletişim	Eğitim	Sağlık
C) İletişim	Ulaşım	Sağlık
D) Eğitim	Ulaşım	Sağlık

9. Teknolojik ürünlerin bilinçsiz kullanılması birtakım sorunların yaşanmasına neden olmaktadır.

Buna göre, aşağıdakilerden hangisi bu duruma örnek olamaz?

- A) Yüz yüze iletişimin azalması
- B) Zararlı radyo dalgalarına maruz kalmak
- C) Hastalıkların daha çabuk teşhis edilmesi
- D) İnternet üzerinden dolandırıcılık yapılması

10. Elektronik telgrafın icadından sonra haberleşme teknolojisindeki gelişmeler daha da hızlandı. Amerikalı mucit elektrik akımının ses titreşimleri ile değiştiğini keşfetti. Bu keşiften sonra ilk telefonu icat etti.

Yukarıda verilen bilgiye göre noktalı yere hangi bilim insanının adı yazılmalıdır?

- A) Thomas Edison
- B) Macellan
- C) Samuel Morse
- D) Alexandre Graham Bell

**SOSYAL BİLGİLER TESTİ BİTTİ.
DİN KÜLTÜRÜ VE AHLAK BİLGİSİ TESTİNE
GEÇİNİZ.**

DİN KÜLTÜRÜ VE AHLAK BİLGİSİ TESTİ

DİKKAT: BU BÖLÜMDE YANITLAYACAĞINIZ TOPLAM SORU SAYISI 5'TİR.
BU BÖLÜMDEKİ SORULARLA İLGİLİ YANITLARINIZI "DİN KÜLTÜRÜ VE AHLAK BİLGİSİ TESTİ"
BÖLÜMÜNE İŞARETLEYİNİZ.

1. "Bir selâm ile selâmlandığınız zaman, siz de ondan daha güzeli ile selâmlayın yahut aynı ile karşılık verin..."
(Nisâ suresi, 86. ayet)

Buna göre aşağıdakilerden hangisi selamlaşma sözlerinden biri değildir?

- A) Merhaba
B) Hayırlı sabahlar
C) Selâmün aleyküm
D) Bismillah

2. Bismillâhirrahmânirrahîm

Elhamdü lillâhi rabbi'l âlemin, errahmânirrahîm.....

Fatiha süresinin okunuşu aşağıdakilerden hangisiyle devam ettirilmelidir?

- A) İhdinas – sırâtal müstakîm.
B) Mâliki yevmiddîn.
C) Gayril mağdubi aleyhim veleddâllîn.
D) Sırâtallezine en'amte aleyhim.

3. "Oruç bir kalkandır; sakın bir kimse oruçluysen cahillik edip de kötü söz söylemesin. Birisi sataşır veya kötü söz söyleyecek olursa 'Ben oruçluyum, ben oruçluyum.' desin."

(Hadis-i Şerif)

Bu hadiste oruç ibadetinin hangi özelliği belirtilmektedir?

- A) İnsanı merhametli olmaya yönlendirmesi
B) Fakirlerin halinin anlaşılmasına yardımcı olması
C) İnsanı kötü ve kırıci davranışlardan sakındırması
D) Allah'ın emrinin yerine getirilmesi

4. "... Allah'a ve ahiret gününe iman eden komşusuna eziyet etmesin..."

(Hadis-i Şerif)

Bu hadisi kendisine ilke edinen kişiden aşağıdakilerden hangisi beklenmez?

- A) Komşusunu rahatsız etmekten kaçınması
B) Komşusunun sırlarını paylaşması
C) Komşusu hastalandığında ziyaretine gitmesi
D) Komşusuna, pişirdiği yemekten götürmesi

5. Akrabalar zor zamanlarda birbirlerinin yardımına koşan ilk kişilerdir. İnsanlar, üzüntülerini ilk olarak akrabalarıyla paylaşırlar, sorunlarını birlikte çözer ve birbirlerine destek olurlar.

Buna göre aşağıdakilerden hangisi akrabalık ilişkilerinde doğru bir davranış değildir?

- A) Ziyarete bulunmadan telefonla aramak
B) Gerektiğinde maddi yardımda bulunmak
C) Önemli kararlarda akrabaların fikirlerini almak
D) Kırgın ve dargın olanları barıştırmak

DİN KÜLTÜRÜ VE AHLAK BİLGİSİ TESTİ BİTTİ.

İNGİLİZCE TESTİNE GEÇİNİZ.

İNGİLİZCE TESTİ

DİKKAT: BU BÖLÜMDE YANITLAYACAĞINIZ TOPLAM SORU SAYISI 5'TİR.
BU BÖLÜMDEKİ SORULARLA İLGİLİ YANITLARINIZI "İNGİLİZCE TESTİ" BÖLÜMÜNE İŞARETLEYİNİZ.

1. Aşağıda verilen resme göre cümleyi tamamlayan ifade hangisidir?



The goggles are _____ the bottle.

- A) behind B) under
C) in front of D) on

2. Aşağıda verilen günlük aktivitelerin oluş sırasına göre doğru sıralaması hangi seçenektir?

- I. I do my homework in the afternoon.
II. I wake up at 7 o'clock.
III. I go to bed at 10 p.m.
IV. I have breakfast and go to school.
A) III – IV – I – II B) II – IV – I – III
C) II – III – I – IV D) II – I – IV – III

3. Aşağıda verilen diyalogu tamamlayan ifade hangi seçenektir?

Daren : _____

Alex : No, I dislike it. But I like riding a bike.


- A) Do you like flying a kite?
B) Can you ride a bike?
C) Do you like riding a bike?
D) What do you do in your free time?

A

A

A

4. Aşağıda verilen diyalogu tamamlayan ifade hangisidir?



- A) It's a red ball.
- B) I can play basketball.
- C) It's John's ball.
- D) The ball is under the table.

A

A

5. Aşağıda verilen konuşmaya göre sorunun cevabı hangi seçenektir?



Hello! I'm Lucy. I can ride a scooter and play the guitar. I can swim, but I can't dive. I can do puzzles, but I can't play chess.

What can't Lucy do?

A)



B)



C)



D)



**İNGİLİZCE TESTİ BİTTİ.
MATEMATİK TESTİNE GEÇİNİZ.**

A

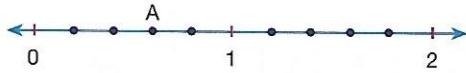
A

A

A

A

5.



Yukarıdaki sayı doğrusunda işaretlenen A kesri için aşağıdakilerden hangisi söylenebilir?

- A) Basit kesirdir.
 B) Bileşik kesirdir.
 C) Tam sayılı kesirdir.
 D) $\frac{4}{6}$ kesrini ifade eder.

6.



Bir pizzanın $\frac{3}{10}$ 'ünü Bengisu, $\frac{1}{10}$ 'ini Efe,

$\frac{2}{10}$ 'sini Begüm ve $\frac{1}{10}$ 'ini Burak yiyor.

Buna göre, kalan pizzanın kesir ifadesi aşağıdakilerden hangisidir?

- A) $\frac{5}{10}$ B) $\frac{4}{10}$ C) $\frac{3}{10}$ D) $\frac{2}{10}$

7.

$$\frac{2}{7} + 1\frac{1}{7}$$

işleminin sonucu kaçtır?

- A) $2\frac{1}{3}$ B) $3\frac{1}{2}$
 C) $1\frac{3}{7}$ D) $\frac{3}{7}$

8. $\frac{4}{5} - \frac{1}{5}$ işleminin sonucu aşağıdaki modellemelerden hangisinde doğru verilmiştir?



9.

$$\frac{7}{8}$$

I

$$\frac{8}{8}$$

II

$$1\frac{2}{8}$$

III

Yukarıdaki kesirlerin büyükten küçüğe doğru sıralanışı aşağıdakilerden hangisidir?

- A) I > II > III B) III > I > II
 C) II > I > III D) III > II > I

A

A

A

A

A

10. Mustafa Kemal İlkokulunda 400 öğrenci bulunmaktadır.



Öğrencilerin $\frac{4}{10}$ 'ü sabahçı olduğuna göre, kaç öğrenci öğlencidir?

- A) 160 B) 200
C) 240 D) 280

11.



Bir bölme işleminde bölen 11 ve bölünen 835'tir. Buna göre, kalan kaçtır?

- A) 7 B) 8 C) 9 D) 10

12. 1 yılda, ■ hafta vardır.

1 haftada, ● saat vardır.

Yukarıda verilen ifadelerin doğru olabilmesi için ■ ve ● yerine aşağıdakilerden hangisi yazılmalıdır?

- A) ■ = 52 B) ■ = 54
C) ■ = 52 D) ■ = 54
● = 168 ● = 12
● = 7 ● = 30

13. "175 sayısının ?'i 70'tir." ifadesindeki ? yere hangi kesir yazılmalıdır?

- A) $\frac{9}{10}$ B) $\frac{2}{5}$ C) $\frac{6}{7}$ D) $\frac{4}{5}$

14. Esmâ, 100 sayfalık kitabının $\frac{4}{10}$ 'ünü okudu.

Okuduğu sayfa sayısı kaçtır?

- A) 80 B) 75 C) 60 D) 40

15. Aşağıdaki kesirlerden hangisi bir yönüyle diğerlerinden farklıdır?

- A) $\frac{2}{10}$ B) $\frac{3}{6}$ C) $\frac{4}{8}$ D) $\frac{6}{12}$

MATEMATİK TESTİ BİTTİ.
FEN BİLİMLERİ
TESTİNE GEÇİNİZ.

FEN BİLİMLERİ TESTİ

DİKKAT: BU BÖLÜMDE YANITLAYACAĞINIZ TOPLAM SORU SAYISI 15'TİR.
BU BÖLÜMDEKİ SORULARLA İLGİLİ YANITLARINIZI "FEN BİLİMLERİ TESTİ" BÖLÜMÜNE İŞARETLEYİNİZ.

1. I. Deniz canlılarının fosilleri oluşmaz.
II. Hayvan kemikleri ve dişleri uygun koşullarda fosilleşir.
III. Fosillerin oluşması için milyonlarca yıl gerekir.
IV. Fosilleri inceleyen bilim paleontolojidir.
Yukarıdaki ifadelerden hangileri doğrudur?

- A) I ve II
B) II ve III
C) I, II ve IV
D) II, III ve IV

2. • Yapıcı ve onarıcıdır.
• Büyüyüp gelişmemizi sağlar.

Yukarıdaki açıklamalar, hangi besin içeriğine aittir?

- A) Vitaminler
B) Yağlar
C) Proteinler
D) Karbonhidratar


3. Aşağıdaki görsellerde anlatılan durumlardan hangisi kuvvetin etkisiyle olmamıştır?

A)




Futbolcunun topa vurmasıyla topun hareketlenmesi

B)



Suyun kaynaması

C)



Kırmızı ışıkta arabanın yavaşlayıp durması

D)



Yel değirmeninin dönmesi

A

A

A

A

A

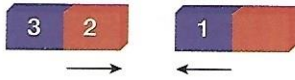
4.



Kuvvetin etkisi ile ilgili yukarıdaki görsellerin üçü için de geçerli olarak aşağıdakilerden hangisi söylenebilir?

- A) Kuvvetin, şekil değiştirici etkisi
- B) Kuvvetin, hareketi hızlandırıcı etkisi
- C) Kuvvetin, hareketin yönünü değiştirme etkisi
- D) Kuvvetin, hareketi yavaşlatıcı etkisi

5.




Yukarıdaki mıknatısların birbirini çektiği gözlemlenmiştir.

Buna göre 1, 2 ve 3 numaralı kutupların doğru adlandırılışı hangisidir?

	1	2	3
A)	N	N	S
B)	N	S	N
C)	S	S	N
D)	S	N	N

6.



Mert, 1000 mL hacmindeki dereceli silindiri 450 mL suyla dolduruyor. Daha sonra dereceli silindire bir taş atan Mert, silindirdeki suyun 800 mL değerini gösterdiğini gözlemliyor.

Buna göre dereceli silindire atılan taşın hacmi kaç mililitredir?

- A) 290
- B) 350
- C) 750
- D) 800

A

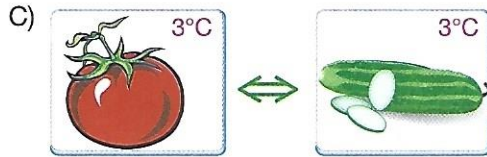
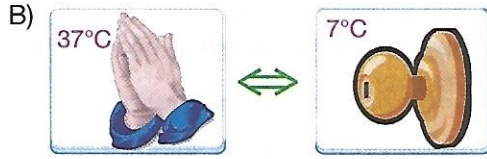
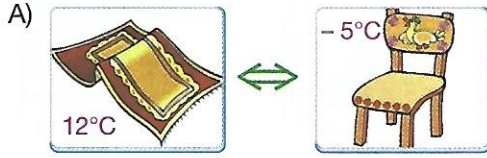
A

A

A

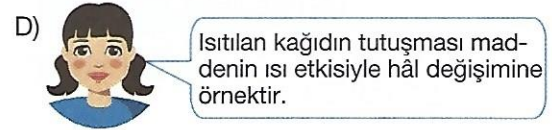
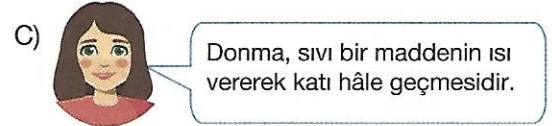
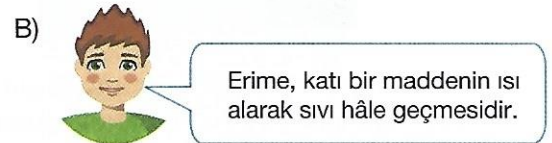
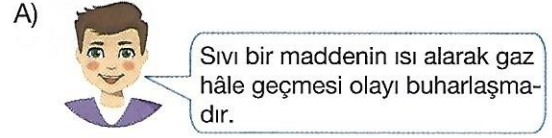
A

7. Aşağıda eşleştirilen ve sıcaklık değerleri verilen maddelerden hangileri arasında ısı alışverişi olmaz?



8. Maddenin hâl değişimiyle ilgili bazı öğrenciler bilgi paylaşımında bulunuyorlar.

Buna göre hangi öğrenci konuyu yanlış öğrenmiştir?



A

A

A

A

A

9.

Madde	Suyu Çeker	Suyu Çekmez	Eşya
Naylon		✓	Yağmurluk
★	✓		Havlu
Kağıt	✓		▲

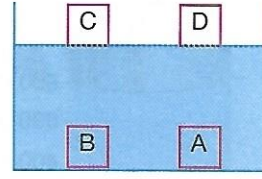
Yukarıdaki tabloya göre, ★ ve ▲ yerlerine hangileri yazılmalıdır?

★

▲

- | | |
|------------------|-------------|
| A) Demir | Sandalye |
| B) Plastik | Demir |
| C) Tahta | Yünlü kumaş |
| D) Pamuklu kumaş | Peçete |

11.



Yukarıdaki su dolu kaba A, B, C ve D maddeleri atılmıştır.

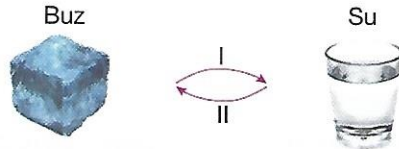
Buna göre aşağıdakilerden hangisi söylenemez?

- A) A maddesi taş olabilir.
 B) B maddesi plastik olabilir.
 C) C maddesi tahta olabilir.
 D) D maddesi şişe mantarı olabilir.

10. Aşağıda karışımlarla ilgili verilen bilgilerden hangisi yanlıştır?

- A) Karışımlar birden fazla maddenin bir araya gelmesi ile oluşurlar.
 B) Çamurlu su saf bir maddedir.
 C) Karışımı oluşturan maddeleri, özelliklerinden yararlanarak ayırabiliriz.
 D) Karışımı oluşturan maddeler kendi özelliklerini kaybetmezler.

12.



Yukarıda, ısıнын etkisiyle maddenin hâl değişimi gösterilmiştir.

Buna göre numaralı yerlere aşağıdakilerden hangisi yazılmalıdır?

I	II
---	----

- | | |
|--------------|-----------|
| A) Isı alır | Isı verir |
| B) Isı verir | Isı verir |
| C) Isı alır | Isı alır |
| D) Isı verir | Isı alır |

A

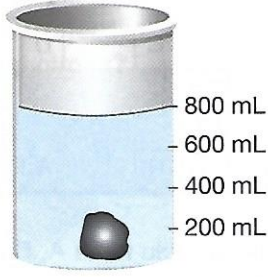
A

A

A

A

13.



Yukarıdaki dereceli kaptaki suyun seviyesi 800 mL'yi göstermektedir. Kaptan taş çıkarılınca suyun seviyesi 580 mL'ye iniyor.

Buna göre aşağıdakilerden hangisi söylenebilir?

- A) Taşın hacmi 1380 mL'dir.
- B) Taşın hacmi 580 mL'dir.
- C) Taşın hacmi 220 mL'dir.
- D) Taşın hacmi 800 mL'dir.

14. Atık maddelerin geri dönüşümüyle

Yukarıdaki noktalı yere aşağıdakilerden hangisi yazılamaz?

- A) enerji tasarrufu sağlanır
- B) ekonomiye katkı sağlanır
- C) doğal kaynaklar azalır
- D) çevre kirliliği azalır

15.

Demir tozu + kum → ▲

Haşlanmış makarna + su → ★

Un + mercimek → ■

Yukarıdaki karışımları ayırmak için uygulanacak yöntemler aşağıdakilerden hangisinde doğru eşleştirilmiştir?

▲

★

■

- | | | |
|---------------|--------------|-------------------|
| A) Miknatısla | Süzme ile | Eleme ile |
| B) Miknatısla | Eleme ile | Süzme ile |
| C) Miknatısla | Süzme ile | Buharlaştırma ile |
| D) Miknatısla | Yüzdürme ile | Miknatısla |

TEST BİTTİ.

YANITLARINIZI KONTROL EDİNİZ.

