

4 A



3112003010004

DENEME SINAVI

3
■ sınıf

Yeni Sistem
Yeni Sorular

1. "Kopmak" sözcüğü aşağıdakilerin hangisinde "gövdeden ayrılmak" anlamında kullanılmıştır?

- A) Ağacın dalları fırtınada koptu.
- B) Daha küçük yaşta ailesinden kopmuş, gurbete çıkmış.
- C) Eşya taşımaktan belim koptu.

2. "Yan" sözcüğü aşağıdakilerin hangisinde "Yolculuğa çıkarken yanına kitap alır." cümlesindekiyle sesteştir?

- A) Genç garson yanımıza geldi.
- B) Karşı apartmanın ışıkları yandı.
- C) Yan daireyi amcamlar kiraladı.

3. Bazen çoğu insanın sabah uykusundan henüz uyanmadığı saatlerde görevlerini yaparlar. Klasik "zaman" kavramı onlar ve görevleri için pek de geçerli değildir. Görevleri toplumun faydasına çalışmaktır. Toplum onların pek farkında olmasa da. Kimlerden mi söz ediyorum? Belediyelerin bünyesinde çalışan temizlik görevlilerinden.

Aşağıdakilerin hangisi metindeki altı çizili sözcüklerden herhangi birinin eş anlamlısı değildir?

- A) Vakit
- B) Meslek
- C) Yarar

4. Aşağıdaki cümlelerin hangisinde "şair" kelimesinin bize çağrıştırdığı bir ifade kullanılmamıştır?

- A) Şair Amasya'da doğmuş.
- B) Kompozisyondan yüksek not aldım.
- C) Törene kadar dört kıta daha ezberlemem gerekiyor.

5. Aşağıdaki cümlelerin hangisinde neden-sonuç ilişkisi vardır?

- A) Çok çalıştığım için sınavdan yüksek not aldım.
- B) Öğretmen şiirimi beğenmiş.
- C) Matematik sınavı ertelenebilir.

6. Yaşlı adam bir taraftan sıcak pideleri yerken bir taraftan da soğuk ayranını yudumluyordu.

Bu cümledeki altı çizili sözcüklerden hangisi bir varlığın özelliğini belirtmemiştir?

- A) Soğuk
- B) Sıcak
- C) Adam

ABD'de çok büyük bir fuar düzenlenmiş. Bu fuarda yiyecek ve içecekler satılıyormuş. Bir dondurma satıcısının hiç tabağı kalmamış. Yan tezgâhta da bugün kullandığımız külahların şeklinde hamur tatlıları satan bir tatlıcı varmış. Tatlıcı dondurmacıya tabak yerine, bu külahları kullanmasını önermiş. Fikir dondurma satıcısının aklına yatmış, hemen işe girişmişler. Fuarı gezen ziyaretçilerin dondurmayı külahta görünce ağızlarının suyu akıyormuş. Böylece dondurmanın külahta sunulması düşüncesi tüm dünyaya yayılmış.

(7 ve 8. soruları metne göre cevaplayınız.)

7. Bu metinde neyden bahsedilmiştir?

- A) Dondurmanın lezzetli bir yiyecek olduğundan
- B) Dondurmanın külahta satılmaya nasıl başlandığından
- C) Dondurmanın her yaşta insan tarafından sevildiğinden

8. Metindeki altı çizili deyimın anlamı aşağıdakilerden hangisidir?

- A) Yemek isteği yok olmak
- B) Çok beğenip istemek, imrenmek
- C) Eğlenceli bir biçimde sürmek

9. Aşağıdaki cümlelerin hangisinde yazım yanlışı vardır?


- A) Kedim Pamuk sobanın başında uyuyor.
- B) Soruyu Pınar cevapladı.
- C) Her geçen dakika Yağmur etkisini artırıyor.

10. Kentler, insanoğlunun korunma gereksinimi ile var olmaya başlar. İnsanlar korunmak için eskiden beri yerleşim alanları kurmuş ve geliştirmiştir. Bu oluşum sürecinde, kırsaldan deniz kıyılarına akın eden halk, deniz ticaretini geliştirerek kentleri yeniden biçimlendiriyor. Zamanla kentleri oluşturan ve uzun süre ayakta kalabilen; saraylar, hanlar, hamamlar, dinsel yapılar ve o günün site kentleri bugün gördüğümüz "siteler kentine" dönüşüyor.

Parçaya göre kentler niçin ortaya çıkmıştır?

- A) Tarımı geliştirmek için
- B) Doğadan uzaklaşmak için
- C) Korunmak için

11.



Bu görselde anlatılmak istenen aşağıdakilerden hangisidir?

- A) Yeşil, şehirleri terk ediyor.
- B) Planlı şehirleşme artıyor.
- C) Modern şehirlerde parklar da yer alıyor.

12.



1. Ardından iskelete ayrıntıları yani eller, ayaklar, kıyafetler vb. eklenir.
2. Karakter renklendirilerek tamamlanır.
3. Çizgi film karakteri çizilirken önce bir öncü duruş çizgisi çizilir.
4. Sonra karakter için bir anatomi düşünülür. Öncü duruş çizgisinin üzerine iskelet çizilir.

Numaralanmış bölümler aşağıdakilerin hangisinde oluş sırasına göre dizilmiştir?

- A) 2 - 3 - 1 - 4 B) 3 - 1 - 4 - 2
C) 3 - 4 - 1 - 2

13. Güneş pırl pırl gökte
Kırlarda neşe kanat kanat
Nasıl bakıyor ışıklar içinde
Çevremde bütün tabiat
Küçük bir çocuğun rüyasıdır bu
El ele vermiş tüm insanlar
Yaşıyorlar kardeşçe
Çiçek sunuyorlar birbirlerine

Bu şiirin ana duygusu aşağıdakilerin hangisinde doğru verilmiştir?

- A) Vatan hasreti
B) Aile özlemi
C) Yaşama sevinci

14. Aşağıdakilerin hangisinde bir varlığın şekli belirtilmiştir?



Mor patlıcan

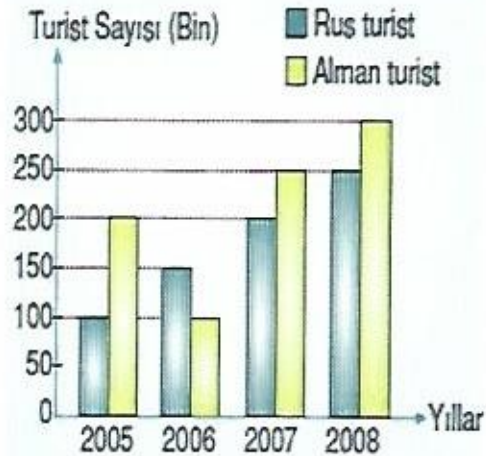


Akıllı telefon



Yuvarlak tas

15. Grafik: Yıllara Göre Antalya'ya Gelen Alman ve Rus Turist Sayıları



Bu grafikten aşağıdakilerden hangisi çıkarılamaz?

- A) Antalya'ya en az turist 2005 yılında gelmiştir.
B) Rus turist sayısı her geçen yıl artmıştır.
C) 2006 yılında Antalya'ya gelen Rus turist sayısı Alman turist sayısından fazladır.

TEST BİTTİ.

CEVAPLARINIZI KONTROL EDİNİZ.

1.



Kadir parkta oynarken düşüp yaralandı.

Buna göre arkadaşlarının **öncelikle** aşağıdaki telefon numaralarından hangisini arayıp yardım istemesi gerekir?

A) 112

B) 155

C) 110

3.

Çocuklar, şimdi ilçemizin en üst yöneticisinin yanına gidiyoruz. Bu yöneticimize ilçemizin sorunlarının neler olduğunu ve bunların çözümü için neler yapıldığını sorabilirsiniz.



Zehra Öğretmen'in öğrencilerini aşağıdaki yönetim birimlerinden hangisine götürdüğü söylenebilir?

A) Valilik

B) Muhtarlık

C) Kaymakamlık

2.



Doğal afetleri önleyemeyiz. Ancak doğal afetlerin zararlarından korunmak için çeşitli önlemler alabiliriz.

Buna göre deprem sırasında aşağıdakilerden hangisi yapılmalıdır?

A) Yüksek katta kiler asansöre binerek binayı hızlıca terk etmelidir.

B) En yakın pencereden dışarı atlanmalıdır.

C) Telaşlanmadan güvenli bir yer bulularak hayat üçgeni oluşturulmalıdır.

4.



Ülkemizde 29 Ekim bin dokuz yüz yirmi üç tarihinde cumhuriyet ilan edilmiştir.

Aşağıdakilerden hangisi cumhuriyetin ilan edilmesinin sonucu **değildir**?

A) Ülkemizin yönetim şekli belirlendi.

B) Türkiye Büyük Millet Meclisi açıldı.

C) Mustafa Kemal Atatürk ilk cumhurbaşkanı seçildi.

5.

Vatanını en çok seven,
görevini en iyi yapandır.



Buna göre bir öğrencinin;

- ◆ Ödevlerini zamanında yapması
- ★ Evdeki sorumluluklarını aksatmaması
- Boş zamanlarını oyun oynayarak geçirmesi

gibi davranışlardan hangilerini yapması vatan sevgisini gösterir?

- A) ◆ ve ★ B) ★ ve ●
- C) ◆, ★ ve ●

6. “Arkadaşlar! Kurtuluş Savaşı yıllarında birçok düşman aynı anda üzerimize saldırıp ülkemizi dört bir taraftan işgal etmeye başladı. Bizim paramız, silahımız ve yardım edecek dostumuz yoktu. Ama Türk milleti tüm düşmanlarını yenerek bağımsız Türkiye Cumhuriyeti’ni kurdu.”

Bu metinde boş bırakılan yere aşağıdakilerden hangisi getirilmelidir?

- A) birlik ve beraberlik içinde
- B) komşu ülkelerden aldığı yardımla
- C) teknolojik silahlara sahip ordusu ile

7.



Oyun alanları ve çocuk parklarında yer alan salıncak, tahterevalli, kaydırak vb. araçlar ortak kullanılmaktadır.

Aşağıdakilerden hangisi bu alanları ve araçları kullanırken yapmamız gereken sorumluluktan değildir?

- A) Araçlara zarar vermemek
- B) Bu alanları temizleyerek kırık ve bozuk araçları tamir etmek
- C) Başkalarının da kullanmasına izin vermek

8. Sınıfımıza bazen yeni öğrenciler gelebilir. Hatta bu öğrencilerin kültürleri ve dilleri de bizden farklı olabilir.

Bu gibi durumlarda;

- ◆ Onlarla arkadaş olmalıyız.
- ★ Bu kişilerle konuşmamalıyız.
- Oyunlarımıza alarak bize uyum sağlamasına çalışmalıyız.

yargılarından hangileri doğrudur?

- A) Yalnız ◆ B) ◆ ve ★
- C) ◆ ve ●

9.



"Bazen hiç umulmadık adamdan çok şeyler öğrenmişimdir. Hiçbir fikri aşağı görmemek lâzımdır. Sonunda kendi fikrimi uygulayacak bile olsam, herkesi ayrı ayrı dinlemekten zevk alırım."

Atatürk'ün yukarıdaki sözü onun hangi kişilik özelliğini anlatmaktadır?

- A) İleri görüşlü olduğunu
B) İnsanlara saygılı olduğunu
C) İyi bir devlet adamı olduğunu

10. Günümüzde çok önemli bir maden olan bor ve toryum ile ilgili araştırma yapmış bilim insanıdır.

Bu bilim insanı aşağıdakilerden hangisidir?

A)



Engin Arık

B)




Aziz Sancar

C)



Zihni Derin

11.



Bitki ve Hayvanların İnsan Yaşamı İçin Önemi:

- ◆ Yiyeceklerimizin çoğunu bitkilerden ve hayvanlardan elde ederiz.
- ★ Bitkiler kökleri ile deprem gibi doğal afetleri önler.
- İhtiyacımız olan oksijen bitkiler tarafından sağlanır.

Bu bilgilerden hangileri doğrudur?

- A) ◆ ve ★ B) ★ ve ●
C) ◆ ve ●

NOT

12. Sebze ve meyvelerin yetişme şartları farklıdır.

Bu göre aşağıdaki meyvelerden hangisi kışın soğuk olan yerlerde yetişebilir?

A)



Muz

B)



Elma

C)



Portakal

TEST BİTTİ.

CEVAPLARINIZI KONTROL EDİNİZ.

1.



This is my - - - -.

- A) living room
- B) bedroom
- C) bathroom

2. **Kate:** What is the shape of the basketball?

Lisa: It is - - - -.

Complete the dialogue.

- A) round
- B) rectangle
- C) triangle

3.



Where are the children?

- A) They like the zoo.
- B) They are in the garden.
- C) They are at the zoo.

4. **John:** Excuse me, - - - -?

Nina: I'm sorry! I don't know.

Complete the dialogue.

- A) Where is the bank
- B) Where is your house
- C) Have you got a pen

5.



Helen: Excuse me, How can I go to the airport?

John: You can take - - - -.

Complete the dialogue.

- A) a taxi
- B) a plane
- C) a helicopter

6. **Jim:** How is the weather in Erzurum?

Peter: It is snowy and - - - -.


Complete the dialogue.

- A) hot
- B) warm
- C) freezing

TEST BİTTİ.

CEVAPLARINIZI KONTROL EDİNİZ.

1.



Esma verilen doğruya göre yukarıdaki şeklin simetriğini çizecektir.

Buna göre Esma aşağıdakilerden hangisini çizmelidir?


A)



B)



C)



2. Arda'nın sağ cebinde 230 kuruş, sol cebinde 485 kuruş vardır.

Arda 6 TL'si ile dondurma alırsa ne kadar parası kalır?

- A) 1 lira 15 kuruş
B) 1 lira 5 kuruş
C) 95 kuruş

3. Aşağıdaki şekillerden hangisinin köşegeni yoktur?

- A) Üçgen
B) Kare
C) Dikdörtgen

4. Aşağıdakilerden hangisi doğru isimlendirilmiştir?


A)



B)



C)



5.



Bir kümesteki 42 hayvanın $\frac{1}{6}$ 'i civcivdir.

Bu kümeste kaç civciv vardır?

- A) 7 B) 8 C) 9

6. Betül, 60'ı hangi sayıya bölerse sonucu 6 bulur?

- A) 100 B) 20 C) 10

7.



Resimde verilen kaplardan çok olan-
dan az olana kuruyemiş konulacak-
tır.

**Kaç gram kuruyemiş konulursa iki
kaptaki kuruyemiş miktarı eşit olur?**

- A) 80 B) 60 C) 40

8. 307 Kuruş= lira kuruş

**Yukarıdaki boşluklara yazılması ge-
reken sayıların toplamı kaçtır?**

- A) 10 B) 37 C) 307

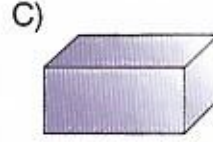
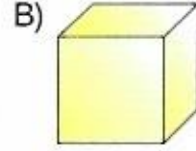
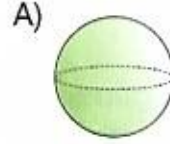
9.

$$\begin{array}{r} 37 \\ \times 23 \\ \hline \end{array}$$

**Yukarıdaki işlemin sonucunun on-
lar basamağındaki rakam kaçtır?**

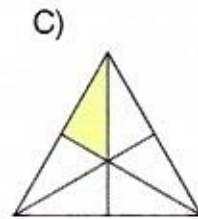
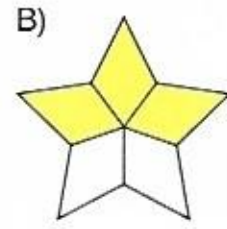
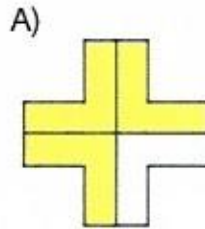
- A) 3 B) 5 C) 7

10. Bütün yüzleri eş olan cisim aşağı-
dakilerden hangisidir?



Net

11. Aşağıdakilerden hangisinde birim
kesir gösterilmiştir?









12. Bir kitabın ilk gün 45 sayfasını okuyan Selim sonraki günlerin her birinde bir önceki günden 9 sayfa daha az okumuştur.

Buna göre Selim üç günde bu kitabın kaç sayfasını okumuştur?

- A) 81 B) 108 C) 112

13.

| | İşe başlama saati | İşi bitirme saati |
|-------|---|---|
| Ayça |  |  |
| Gizem |  |  |
| Erhan |  |  |

Yukarıda Ayça, Gizem ve Erhan'ın bir işe başladığı ve bitirdiği saatler gösterilmiştir.

İşi en kısa sürede kim bitirmiştir?

- A) Ayça B) Gizem C) Erhan

14.

| Balık türü | Balık sayısı |
|-------------|---|
| Japon |  |
| Lepistes |  |
| Astronot |  |
| Kılıçkuyruk |  |

Yukarıdaki çetele tablosunda bir akvaryumdaki balıkların sayıları gösterilmiştir.

Buna göre akvaryumda kaç balık vardır?

- A) 30 B) 32 C) 35

15.

■ = 6 onluk 5 birlik

● = 1 yüzlük 7 birlik

olduğuna göre

■ + ● işleminin sonucu kaçtır?

- A) 82 B) 172 C) 235

TEST BİTTİ.

CEVAPLARINIZI KONTROL EDİNİZ.

1.

Nezle oldum. Burnum tıkanı. Yiyeceklerin tadını alamıyorum.



Mete

Mete'nin yaşadığı durum aşağıdakilerden hangisi ile daha iyi açıklanır?

- A) Besinlerin tadının tam olarak algılanması için kokusunun da alınması gerekir.
- B) Besinleri göremesek bile tadını alabiliriz.
- C) Bazı besinlerin kokusu yoktur.

2. Aşağıdakilerden hangisi çevresine ışık yaymak için başka varlığa ihtiyaç duyan ışık kaynaklarına örnek verilebilir?

A)



Ateş böceği

B)



Mum

C)



Yıldırım

3.



Yukarıdaki sirk çalışanı belli sayıda topu düşürmeden çevirmektedir.

Buna göre 1 ve 2 numaralı topların hareketi ile ilgili aşağıdaki ifadelerden hangisi söylenebilir?

- A) 1 numaralı top yukarı yönde yavaşlayan hareket yapar.
- B) 2 numaralı top aşağı yönde yavaşlayan hareket yapar.
- C) Her iki top da hızlanan hareket yapar.

4. Aşağıdaki ses kaynaklarından hangisi bir yönüyle diğer ikisinden farklıdır?

A)




Bebek

B)



Minibüs

C)



Rüzgâr

5.



1



2



3

“Bazı Maddeler Vücudumuza Zarar Verebilir” başlıklı bir poster hazırlayacak olan Hakan yukarıdaki resimlerden hangilerini kullanabilir?

A) Yalnız 1 B) 2 ve 3

C) 1, 2 ve 3

6.

| | |
|---------------|----------------------|
| Masa lambası | Elektrikli battaniye |
| Otomobil farı | Elektrikli ısıtıcı |

Yukarıda verilen tabloda ısınma amaçlı kullanılan elektrikli araç gereçlerin bulunduğu kutular mavi renge boyanırsa tablo aşağıdakilerden hangisindeki gibi görünür?

| | | | |
|-----------------|----------------------|-----------------|----------------------|
| A) Masa lambası | Elektrikli battaniye | B) Masa lambası | Elektrikli battaniye |
| Otomobil farı | Elektrikli ısıtıcı | Otomobil farı | Elektrikli ısıtıcı |

| | |
|-----------------|----------------------|
| C) Masa lambası | Elektrikli battaniye |
| Otomobil farı | Elektrikli ısıtıcı |

7. Aşağıdaki öğrencilerden hangisinin söylediği ifade doğrudur?

A)

Futbol topunun içinde sıvı madde vardır.



B)

Bisküvi katı bir besindir.



C)

Araba deposunda gaz hâledeki benzin bulunur.



8. Aşağıdaki görsellerden hangisi doğal çevreyi korumak için yapılması gereken bir davranış içermez?

A)



B)



C)



9. Dört arkadaş kamp yürüyüşüne çıkmıştır. Ayça, arkasında şarkı söyleyerek yürüyen Selin, Irmak ve Ozan'ın seslerini aynı şiddette duymaktadır.



Buna göre Selin, Irmak ve Ozan'ın ses şiddetlerine göre büyükten küçüğe doğru sıralanışı hangisinde doğru verilmiştir?

- A) Ozan - Irmak - Selin
B) Selin - Irmak - Ozan
C) Ozan - Selin - Irmak

10.

Doğal Çevre

Yapay Çevre

1. Doğada kendiliğinden bulunur.

2. İnsanların isteklerine göre yapılır.

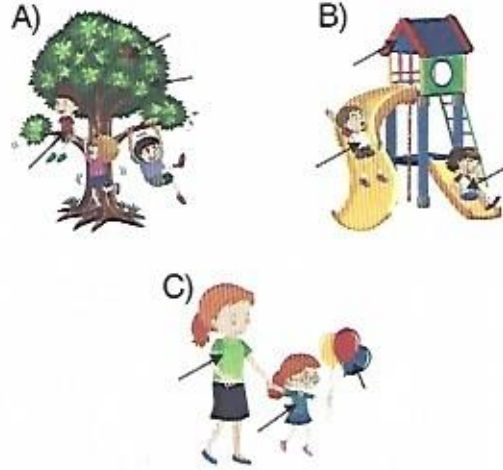
3. Oluşumunda insan emeği vardır.

4. Oluşumunda insan emeği yoktur.

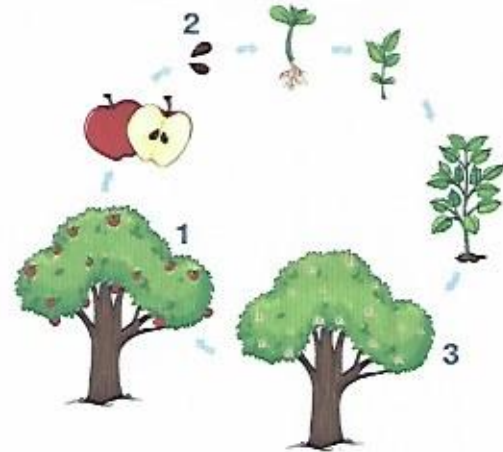
Doğal ve yapay çevre ile ilgili hazırlanan yukarıdaki tablo hakkında aşağıdakilerden hangisi söylenebilir?

- A) Tamamen doğru hazırlanmıştır.
B) 1 ve 2. bilgiler yer değiştirilmelidir.
C) 3 ve 4. bilgiler yer değiştirilmelidir.

11. Aşağıdakilerden hangisinde ok ile belirtilen varlıkların tamamı canlıdır?



12. Aşağıda bir bitkinin yaşam döngüsüne ait diyagram verilmiştir.



Buna göre numaralarla belirtilen olaylar ile ilgili aşağıdakilerden hangisi yanlıştır?

- A) 1 → Bitki, tohum oluşturur. Tohumun gelişmesiyle meyve oluşur.
B) 2 → Tohum gelişerek meyveyi oluşturur.
C) 3 → Belli bir büyüklüğe ulaşan bitki çiçek açar.

TEST BİTTİ.

CEVAPLARINIZI KONTROL EDİNİZ.