

4 A



3112004010004

DENEME SINAVI

4 ■ sınıf

Yeni Sistem
Yeni Sorular

1.



Bu görselde verilmek istenen mesaj aşağıdakilerden hangisidir?

- A) Satın aldığımız ürünlerin üretim tarihi hakkında bilgi sahibi olmalıyız.
- B) Tüketiciler, bir ürün satın alırken üründe hangi katkı maddelerinin kullanıldığına dikkat etmelidir.
- C) Satın alınan bir mal yeri geldiğinde iade edilebilir.
- D) Tüketici, satın aldığı ürünün hangi şartlarda üretildiğini araştırmak zorundadır.

2. Lüzumsuz şeyler öğrenenler, lüzumlu şeylere kulak tıkamış olurlar.

Bu cümleden aşağıdakilerden hangisi çıkarılabilir?

- A) Her bilgi bizlere farklı bir dünyanın kapısını açar.
- B) Yerinde kullanılmayan bilgi gereksizdir.
- C) Bilgili insan, çevresini aydınlatan bir mum gibidir.
- D) Gereksiz bilgi, gerekli bilginin önündeki engeldir.

3. Bin liraya aldığımız akülü araba kısa sürede bozuldu.

Altı çizili sözcüğün eş seslisi aşağıdakilerin hangisinde kullanılmıştır?

- A) Kasaya gitti ve kasiyer bayana bin lira uzattı.
- B) Binaların bin metre uzağına şehir hastanesi yaptılar.
- C) İlk önce ata sen bin, sonra da kardeşini bindirirsin.
- D) Üç ciltlik kitabın toplam sayfa sayısı binmiş.

4. Aşağıdaki metinlerin hangisinde hayalî öğelere yer verilmiştir?

A) Bahar gelmiş, ağaçlar bir bir çiçek açmıştı. Doğa âdeta yemyeşil olmuştu. Babam doğanın civil civil olduğu bugünlerde bizleri de yanına alarak yaylanın yolunu tuttu.

B) Bahçemizdeki kavak ağacının dalına leyleklerden biri yuva yapmıştı. "Acaba yuvada yumurta var mı?" düşüncesinden bir türlü kurtulamıyordum. Dayanamadım ve kavak ağacına çıkmaya karar verdim.

C) Cırcır böceklerinin sesi çok uzaklardan geliyordu. Elif, bu seslere yabancı değildi. Çünkü köydeki evlerinin damında yattığı akşamlar gökyüzündeki yıldızları seyrediyor, kırlardan gelen bu seslerle uykuya dalardı.

D) Deredeki kurbağa suyun tam ortasındaki yosun tutmuş taşın üstünde bir heykel gibi duruyordu. Fakat bir anda doğruldu, etrafına korku dolu gözlerle baktı, çalılıktan gelen tıkırtılar onu tedirgin etmişti. "Buradan gitmeliyim." dedi.

5. Aşağıdaki cümlelerin hangisinde sayıların yazımında yanlışlık yapılmıştır?

- A) Ders zili on beş dakika sonra çalacak.
 B) Dedem ellibir yaşında köye dönmeye karar verdi.
 C) Okulumuzun bahçesinde kırk üç tane çam ağacı var.
 D) Öğretmenimizin yirmi yedinci yaş gününü kutladık.

6. Kardeşin, ne kadar da tatlı bir çocuk! Allah bağışlasın.

Bu cümlede geçen hangi sözcük mecaz anlamlıdır?

- A) Kardeşin B) Çocuk
 C) Kadar D) Tatlı

7. Nezaket, yapılan güzel ve terbiyeli davranışlara denir. Selamlaşmak, saygı ve sevgi nezaket ifade eden davranışlardır.

Buna göre aşağıdaki cümlelerin hangisinde nezaket bildiren bir davranışa yer verilmiştir?

- A) Kitapları ve defterleri sıranın altına bıraktım.
 B) Sofrayı toplama görevi ablama düşmüştü.
 C) Bana yaptığın iyilikleri unutmayacağım, çok teşekkür ederim.
 D) Sokaktan geçen motosikletin çıkardığı ses kafamızı şişirdi.

8. Aşağıdaki cümlelerden hangisinin sonuna nokta (.) getirilmelidir?

- A) Az sonra en sevdiğim film başlayacak
 B) Bu oyuncakları hangi mağazadan aldın
 C) Merdivenleri çıkarken zorlanıyor musun
 D) Türkçe dersi ne zaman başladı

9. Bir eylemin gerçekleşme nedeniyle birlikte verildiği cümlelere neden-sonuç cümleleri denir.

Bu açıklamaya göre aşağıda medya metinlerinden alınan cümlelerin hangisinde neden-sonuç ilişkisi söz konusudur?

- A) Belediye başkanı, ilçelerindeki anaokullarının bahçelerine kaydırak ve salıncak yaptırma kararı aldı.
 B) Ülkemizin doğu illerinde yarından itibaren karla karışık yağmur ve şiddetli fırtına görülecek.
 C) Yıldırım düştüğü için ormanlık alandaki ağaçlardan birkaçı alev almıştı, alevler itfaiye ekiplerinin üstün gayretiyle kısa sürede söndürüldü.
 D) 1 Haziran tarihinde başlayacak olan bilim olimpiyatlarına İzmir'i temsil etmek üzere Aziz Kafalı ve İrem Bilge katılacak.

10.



Bora, Doğukan, İsmet ve Nermin yanındaki mavi, pembe, yeşil ve sarı kalemlerden birini almıştır. Bu kişilerin aldıkları kalemlerle ilgili bilinenler şunlardır:

- ◆ İsmet, pembe ve mavi kalemi almıştır.
- ◆ Bora sarı kalemi almıştır.
- ◆ Doğukan'ın aldığı kalem pembe değildir.

Bu bilgilere göre Nermin hangi kalemi almıştır?

- A) Yeşil B) Pembe
 C) Mavi D) Sarı

11. Aşağıdaki cümlelerin hangisinde karşılaştırma yapılmıştır?

- A) Ağabeyim üzüm pekmezini çok sever.
- B) Bizim bahçenin erikleri karşı bahçenin eriklerinden daha ekşi.
- C) Odada sinek olduğu için rahat uyuyamadım.
- D) İki takımın futbolcuları birbirlerini tebrik etti.

12. Mersin'deki evimizin bahçesinde arkadaşlarımla geçirdiğim günleri mumla arıyorum.

"Mumla aramak" deyiminin bu cümleye kattığı anlam aşağıdakilerden hangisinde vardır?

- A) Arkadaşım Ömer'i okulun kantininde görünce çok sevindim.
- B) Kübra, oyuncağını kaybedince çok üzüldü.
- C) Şeyma, ilkokul arkadaşlarını çok özlemiş.
- D) Babam, sabahları erkenden kalkar, işe giderdi.

13. 1. Az sözle çok şey anlatmayı seven biridir.

2. Önce yaşlıları ve çocukları içeri alalım.

3. Söz vermesine rağmen bizimle gelmedi.

4. İkide bir lafımı kesiyor, beni konuşturmuyordu.

Numaralanmış cümlelerin hangisinde zıt (karşıt) anlamlı sözcükler bir arada kullanılmıştır?

- A) 1. B) 2. C) 3. D) 4.

Tiyatro oyunu birazdan başlayacak. Daha önce pek çok sanat etkinliğine katılmışım fakat ilk defa bir tiyatro oyunu seyredeceğim. Sahnedeki oyuncular, oyuncuların kostümlerini, hareketlerini, sahnenin dekorunu çok merak ediyorum. Evet, sahne açıldı ve birbirinden ilginç kostüm giyen oyuncular sahnedeki yerlerini aldı. Oyun oldukça zevki olacak ve merakım giderek artıyor, çok heyecanlıyım.

(14 ve 15. soruları bu metne göre cevaplayınız.)

14. Aşağıdakilerden hangisi bu metnin başlığı olabilir?

- A) Arkadaşım ve Ben
- B) Günlük Tutuyorum
- C) Tiyatro ve Sinema
- D) İlk Tiyatrom

15. Bu metinden, yazar ile ilgili aşağıdakilerden hangisi çıkarılamaz?

- A) Hayallerinden biri de tiyatro oyuncusu olmaktır.
- B) Sanat etkinliklerine katılan biridir.
- C) İzleyeceği tiyatro oyunundan keyif alacağına inanan biridir.
- D) İlk defa tiyatro oyununa gitmiştir.

TEST BİTTİ.

CEVAPLARINIZI KONTROL EDİNİZ.

1.



İnsanlar ve diğer canlılar üzerinde zararlı etkilere yol açan doğa olaylarına doğal afet denir.

Doğal afetlere karşı alınan aşağıdaki önlemlerden hangisi yanlıştır?

- A) Toprak kaymasını önlemek için ağaçlandırmaya önem verilmelidir.
- B) Sele karşı barajlar yapılarak suyun akışı kontrol altına alınmalıdır.
- C) Depreme karşı çok katlı evler yapılmamalıdır.
- D) Fırtınalara karşı doğal bitki örtüsü artırılmalıdır.

2.



Cep telefonları beyin ısınısını arttırarak beyin hücrelerimizin ölmesine ve kulağımızın zarar görmesine yol açabiliyor.

Telefonla konuşurken aşağıdakilerden hangisini yapmak bu aletin zararlarını azaltmaz?

- A) Kısa süreliğine kullanmak
- B) Sadece akıllı telefon kullanmak
- C) Uzun süre yüksek sesli dinleme yapmamak
- D) Yalnızca zorunlu hâllerde kullanmak

3.



“Arkadaşlar ben Nazife. Benim memleketimde her türlü sebze meyve yetişir. Meyvenizi kendi bahçenizden taptaze yersiniz. Et, süt ve yumurta gibi ürünlerimiz de organiktir. Çünkü onları da kendimiz üretiriz. Ayrıca ürettiklerimizi şehre götürüp satarak para kazanır ve diğer ihtiyaçlarımızı da bu şekilde karşılarız.”

Buna göre Nazife'nin memleketinde aşağıdaki ekonomik faaliyetlerden hangisinin yapıldığı belirtilmemiştir?

- A) Tarım
- B) Hayvancılık
- C) Sanayi
- D) Ticaret

Not

4. Bilinçli tüketici sebze, meyve gibi gıdaları alırken bunların tazeliğine ve temizliğine dikkat eder. Ambalajlı gıdaların üretim ve son kullanma tarihlerini kontrol edip son kullanma tarihi geçmiş yiyecekleri almaz. Bu ürünlerin tüketilmesi hâlinde insanları zehirleyeceğini bildiği için eğer yanlışlıkla böyle bir ürün almışsa hemen iade eder.



Bu bilgiler bilinçli tüketicinin daha çok aşağıdaki hangi özelliği ile ilgilidir?

- A) İsrâf etmemesi ile
- B) Sağlıklı ürünler almasıyla
- C) Yerli tüketime önem vermesiyle
- D) Gereksiz harcama yapmaması ile

5. Alışveriş yapan her vatandaş mutlaka bu belgeyi almalıdır. Eğer bu belgeyi almazsanız yaptığınız işlem kayıtlara geçmez. Bu durumda devlete ödemesi gereken para satıcının kasasında kalır ve devletin vergi geliri azaldığı için yapılacak yatırımlar da aksar.

Bu belge aşağıdakilerden hangisidir?

- A) TSE belgesi
- B) Fiş veya fatura
- C) Garanti belgesi
- D) Kullanım kılavuzu

6.



Faruk Bey oğlu Ömer'e haftalık 30 TL okul harçlığı vermiş. Ancak Ömer henüz üçüncü gün parasını bitirip yeniden harçlık istediğinde babası ona demiştir.

Buna göre verilen metin aşağıdakilerden hangisi ile tamamlanamaz?

- A) tasarruflu davranmışsın
- B) neden parayı planlı harcamadın?
- C) ayağını yorganına göre uzatmamışsın
- D) İhtiyaçlarının dışında harcama yapmışsın

7. Elektrik günlük hayatta en fazla ihtiyaç duyulan ancak en fazla israf edilen enerji kaynaklarından.

Aşağıdakilerden hangisini yapmak elektrik tasarrufu sağlamaz?

- A) Giysileri biriktirmeden günlük olarak tek tek ütölemek
- B) Çamaşır ve bulaşık makinelerimizi ekonomik programda çalıştırmak
- C) Kullanmadığımız elektronik cihazların fişini çekmek
- D) Evimizi sıcak ve soğuktan korumak için gerekli yalıtımı yaptırmak

8.



Kerem çok iyi basketbol oynadığı için okul takımına seçildi. Zamanla takımın en iyi oyuncusu oldu. Ancak bir müddet sonra Kerem bu öz güvenle antrenmanları aksatmaya antrenörün direktiflerine uymayıp kendi istediği gibi oynamaya başlayınca takımdan çıkarılmıştır.

Buna göre Kerem ile ilgili olarak;

- I. Oyun oynama hakkını kullanamamıştır.
- II. Sorumluluklarını yerine getirmemiştir.
- III. Sosyal ve sportif etkinliklere katılma hakkını kullanmıştır.

yargılarından hangilerine ulaşılabilir?

- A) Yalnız I.
- B) Yalnız II.
- C) I ve II.
- D) II ve III.

9. Bazı çocuklar arkadaşlarıyla beraber okula gitmek ve onlarla eğlenip vakit geçirmek yerine sabahtan akşama kadar ağır işlerde çalıştırılıyorlar.

Bu bilgiye göre çalışan çocuklar;

- I. Eğitim
- II. Oyun oynama
- III. Yerleşme ve seyahat

özgürlüklerinden hangilerini kullanamazlar?

- A) Yalnız I.
- B) Yalnız II.
- C) I ve II.
- D) I, II ve III.

10. Öğrenciler okullarında çeşitli amaçlarla kurulan eğitsel ve sosyal etkinliklere katılırlar. Bu toplulukların etkinlikleri sırasında takım arkadaşları ile ortak çalışma, takımla ilgili alınan kararlara katkı sunma ve alınan kararlardan kendi üzerine düşenleri yerine getirme gibi alışkanlıklar edinirler.

Buna göre eğitsel ve sosyal etkinliklere katılmanın çocuklara öncelikle aşağıdakilerden hangisini kazandırması beklenmez?

- A) Sorumluluk bilinciyle hareket etmeyi
- B) Demokratik yaşama uyum sağlamayı
- C) Toplumsal hayatta etkin bir birey olmayı
- D) Vatandaşlık hak ve görevlerini öğrenmeyi

11. 23 Nisan 1920'de Ankara'da Büyük Millet Meclisi açılmıştır.

Buna göre TBMM'nin açılması ile;

- I. Yeni Türk devleti kurulmuştur.
- II. Cumhuriyet yönetimine geçilmiştir.
- III. Kişi egemenliğinden millet egemenliğine geçilmiştir.

yargılarından hangileri doğrudur?

- A) Yalnız I.
- B) Yalnız II.
- C) I ve III.
- D) I, II ve III.

12.



Finlandiya'nın üçte ikisi ormanlarla kaplıdır. Ormancılık Finlandiyalıların en önemli geçim kaynaklarından biridir. Finlandiya'da Ruska adı verilen 20 Mayıs'tan 24 Temmuz'a kadar geçen yaz döneminde güneş hiç batmaz. Her yıl dünyanın dört bir yanından yüz binlerce insan bu doğa olayını izlemek için Finlandiya'ya gelmektedir.

Buna göre Finlandiya ile ilgili aşağıdakilerden hangisi söylenebilir?

- A) Coğrafi şartları ekonomik faaliyetlerini etkilemiştir.
- B) Dünyada en fazla turist çeken ülkedir.
- C) Farklı iklimler görülmektedir.
- D) Ekonomisi çok gelişmiştir.

TEST BİTTİ.

CEVAPLARINIZI KONTROL EDİNİZ.

1. Pam: Do you - - - - in winter?

Amy: Yes, I do.

Pam: Why?

Amy: Because it is snowy.

Fill in the blank.

- A) walk to school
- B) have breakfast
- C) wear boots
- D) put on sunglasses

2. Ted: My sister is fat with brown hair.

Which picture shows Ted's sister?

A)



B)




C)



D)



3.



Nazlı: What do you need for this experiment?

Cem: I need some - - - -.

Look at the image and complete the dialogue.

- A) towels
- B) beans
- C) pebbles
- D) paper

4.



Fill in the speech bubble.

- A) I am a postman
- B) I am a fireman
- C) I am a chef
- D) I am a policeman

5.




What is Linda like?

- A) She is a hardworking girl.
- B) She is a very lazy student.
- C) She has got big eyes.
- D) She has got blonde hair.

6.

What do you do
in the evenings?



Which answer is true?

- A) I have breakfast
- B) I get dressed for school
- C) I watch television
- D) I wake up early

net

TEST BİTTİ.

CEVAPLARINIZI KONTROL EDİNİZ.

1.

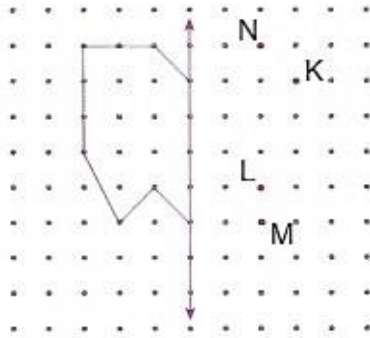


Yukarıda eşkenar üçgen ve kare şeklinde trafik levhaları verilmiştir.

İki levhanın çevre uzunlukları eşit olduğuna göre kare şeklindeki levhanın bir kenar uzunluğu kaç santimetredir?

- A) 6 B) 8 C) 10 D) 12

2.



Sena, yukarıdaki şeklin verilen doğruya göre simetrisini çizecektir.

Şeklin simetrisinin geçtiği kırmızı noktaların tamamı aşağıdakilerden hangisinde verilmiştir?

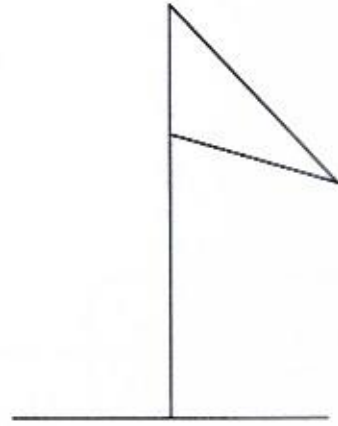
- A) K ve N B) L ve N
C) K, N ve M D) K, L ve M

3. Yeşim'in silgisinin uzunluğu 32 mm'dir.

Yeşim'in kalemi silgisinden 8 cm 3 mm uzun olduğuna göre kalemının uzunluğu kaç milimetredir?

- A) 108 B) 110 C) 112 D) 115

4.



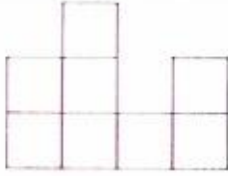
Yukarıdaki şekilde kaç tane dar açı vardır?

- A) 1 B) 2 C) 3 D) 4

5. Bir üçgenin köşe sayısı ile bir karenin kenar sayısının toplamı kaçtır?

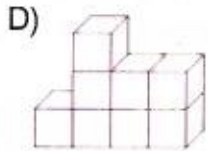
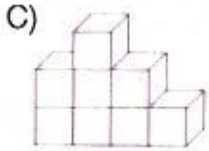
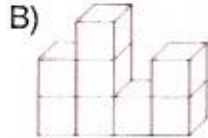
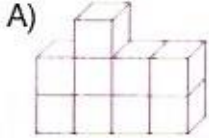
- A) 4 B) 5 C) 6 D) 7

6.



Yukarıda, birim küplerle oluşturulan bir yapının önden görünümü verilmiştir.

Bu yapı aşağıdakilerden hangisi olabilir?



7. Harun bir filmi 20.15'te seyretmeye başlamış ve 44 dakika sonra filme ara vermiştir. 540 saniye sonra tekrar izlemeye başladığı film bundan 1 saat 12 dakika sonra bitmiştir.

Buna göre Harun film izlemeyi bitirdiğinde saat kaç gösterir?

- A) 22.20 B) 22.24
C) 22.29 D) 22.33

8. İzmir'de yaşayan Jale, yurt dışına çıktıktan 8 hafta 4 gün sonra İzmir'e geri dönmüştür.

Jale yurt dışında kaç gün kalmıştır?

- A) 60 B) 62 C) 64 D) 66

9.

$$\frac{1}{7} > \frac{1}{A}$$

Yukarıda verilen karşılaştırmanın doğru olabilmesi için A yerine yazılabilecek en küçük doğal sayı kaçtır?

- A) 5 B) 6 C) 8 D) 9

10. Leyla 420 TL'sinin $\frac{5}{7}$ 'i ile ayakkabı almıştır.

Leyla ayakkabıyı kaç liraya almıştır?

- A) 280 B) 300 C) 320 D) 340

11. Eni 25 m, boyu 60 m olan dikdörtgen şeklindeki bir bahçenin etrafına tel çekilmek için 5 m aralıklarla direk dikilecektir.

Köşelere de birer direk dikileceğine göre bahçenin etrafına toplam kaç direk dikilmelidir?

- A) 24 B) 30 C) 34 D) 36

12. Bir portakal bahçesinden toplanan 2145 kilogram portakalın 1078 kilogramı satılmıştır.

Buna göre geriye kaç kilogram portakal kalmıştır?

- A) 1067 B) 1073 C) 1107 D) 1117

13. $28 \times 10 = 280$
 $280 \div 2 = 140$

Yukarıdaki işlem aşağıda verilen işlemlerden hangisinin kısa yoldan yapıışıdır?

- A) $140 \div 5$ B) 28×5
C) $280 \div 5$ D) 14×5

14. $72 \div 8 = 11 - \square$

Yukarıdaki eşitliğin sağlanabilmesi için \square yerine aşağıdaki sayılardan hangisi yazılmalıdır?

- A) 1 B) 2 C) 3 D) 4

15. Bir manavdaki $\frac{21}{5}$ kilogram patatesin $\frac{6}{5}$ kilogramı satılmıştır.

Buna göre manavda kaç kilogram patates kalmıştır?

- A) $\frac{8}{5}$ B) 2 C) $\frac{12}{5}$ D) 3

TEST BİTTİ.

CEVAPLARINIZI KONTROL EDİNİZ.

1.



Dünya'nın yapmış olduğu hareketler ve sonuçları ile ilgili verilen ifadelerden hangisi yanlıştır?

- A) Dünya, Güneş'in etrafında dolanma hareketi yapar.
- B) Dünya'nın kendi etrafında dönme hareketi ile mevsimler oluşur.
- C) Dünya, Güneş etrafındaki dolanma hareketini 365 gün 6 saatte tamamlar.
- D) Dünya kendi etrafındaki dönme hareketini 1 günde (24 saat) tamamlar.

2.



Demir, nikel ve kobalt gibi maddeleri çekme özelliğine sahip olan cisimlere mıknatis denir.

Buna göre mıknatıslar ile ilgili aşağıda verilen ifadelerden hangisi yanlıştır?

- A) Elektrik motorlarının yapısında mıknatis kullanılmaz.
- B) Mıknatısın farklı kutupları birbirine çekme kuvveti uygular.
- C) Pusulanın yapısında mıknatis bulunur.
- D) Mıknatısı kaç parçaya bölerseniz bölün her parça yine mıknatıslık özelliği göstermeye devam eder.

3. Cisimlerin üzerine uyguladığımız itme veya çekme kuvveti ile

Yukarıda verilen cümledeki boşluğa aşağıdakilerden hangileri yazılabilir?

- I. cisimleri hareket ettirebiliriz.
- II. cisimlerin kütlelerini artırabiliriz.
- III. cisimlerin şeklini değiştirebiliriz.

- A) Yalnız I
- B) I ve II
- C) I ve III
- D) II ve III

4.



Besinlerin vücudumuzdaki görevleri ile ilgili;

- I. Proteinler, vücudumuzda yapıcı ve onarıcı olarak görev yapan besinlerdir.
- II. Vitaminler, vücudumuzda düzenleyici olarak görev yapan besinlerdir.
- III. Karbonhidratlar, vücudumuzun enerji ihtiyacını sağlayan besinlerdir.

verilen ifadelerden hangileri doğrudur?

- A) Yalnız I
- B) I ve III
- C) II ve III
- D) I, II ve III

NOT

5. Bir öğrenci, bazı maddelerin özellikleri ile ilgili aşağıdaki tabloyu hazırlamıştır.

Madde	Suda batar	Suda yüzer	Suyu emer
Plastik			
Taş			
Tahta			

Buna göre öğrenci tabloda maddelerin sahip olduğu özellikler ile ilgili aşağıdaki işaretlemelerden hangisini yapmalıdır?

A)

Madde	Suda batar	Suda yüzer	Suyu emer
Plastik	✓		✓
Taş	✓		
Tahta		✓	

B)

Madde	Suda batar	Suda yüzer	Suyu emer
Plastik	✓		
Taş		✓	
Tahta		✓	✓

C)

Madde	Suda batar	Suda yüzer	Suyu emer
Plastik		✓	
Taş	✓		
Tahta		✓	✓

D)

Madde	Suda batar	Suda yüzer	Suyu emer
Plastik	✓		✓
Taş	✓		✓
Tahta		✓	

6. Bir kaptaki bulunan sıvının net kütle-sini ölçmek için;

- I. Kabin brüt kütle-sinden, kabin darası çıkarılır.
- II. Kabin darası ölçülür.
- III. Kabin brüt kütle-si ölçülür.

verilen işlemler hangi sıra ile yapılmalıdır?

- A) II - I - III B) II - III - I
C) I - III - II D) III - I - II

- 7.



Halojen lamba



Akkor lamba



Floresan



Led ampul

Geçmişten günümüze kadar kullanılan bazı aydınlatma araçları yukarıda karışık olarak verilmiştir.

Bu aydınlatma araçlarından hangisi en önce, hangisi en son kullanılmaya başlanmıştır?

En önce kullanılan

En son kullanılan

- A) Akkor lamba Halojen lamba
B) Led ampul Floresan
C) Akkor lamba Led ampul
D) Halojen lamba Akkor lamba

- 8.



Işığın yanlış kullanımı ışık kirliliğine neden olur.

Buna göre;

- I. Gök bilimciler
- II. Caretta caretta kablumbağaları
- III. Göçmen kuşlar

verilenlerden hangileri ışık kirliliğinden olumsuz etkilenir?

- A) Yalnız I B) II ve III
C) I ve III D) I, II ve III

9. Ses teknolojilerinin gelişmesi ile birlikte sesin şiddetini değiştiren araçlar geliştirilmiştir.

Buna göre aşağıda verilenlerden hangisi sesin şiddetini değiştirebilen bir araç değildir?

- A)  Megafon
- B)  Kaset
- C)  İşitme cihazı
- D)  Hoparlör

10. Doğal kaynakların tasarruflu kullanılması bizim ve bizden sonraki nesillerin hayatları için çok önemlidir.

Buna göre su tasarrufu için;

- I. Bozuk olan musluk ve sifonları en kısa sürede onarmalıyız.
- II. Meyve ve sebzeleri su dolu bir kapta bir süre beklettikten sonra yıkamalıyız.
- III. Su kaynaklarına kesinlikle kanalizasyon ve başka atık maddeler karıştırmamalıyız.

verilenlerden hangilerinin yapılması gerekir?

- A) Yalnız I
- B) I ve III
- C) II ve III
- D) I, II ve III

11.



Dünya nüfusunun hızla artması ile birlikte tüketim artmıştır.

Buna göre aşağıda verilenlerden hangisi bilinçli tüketicilerin yapması gerekenlerden biri değildir?

- A) İhtiyaçlarını göz önünde bulundurarak planlı alışveriş yapar.
- B) Satın aldığı mal veya hizmetle ilgili bir problem oluştuğunda hakkını arar.
- C) Kaliteli mal veya hizmetleri çok yüksek fiyatlara alarak kullanır.
- D) Sağlıklı, güvenli ve çevreye zarar vermeyen ürünleri tercih eder.

12. Yüksek şiddetli ve kulağımıza hoş gelmeyen rahatsız edici her türlü düzensiz seslerin yaptığı etkiye ses kirliliği denir.

Buna göre aşağıda verilenlerden hangisi ses kirliliğine neden olan etkenlerden biridir?

- A) Mahalle içindeki inşaat çalışmaları
- B) Işığın yanlış yönde ve şekilde kullanılması
- C) Motorlu taşıtların egzozlarından çıkan gazlar
- D) Fabrika atıklarının akarsulara boşaltılması

TEST BİTTİ.

CEVAPLARINIZI KONTROL EDİNİZ.

biNOT



“Kazanmak için
biNOT yeter!”